


Étoile dorée



NOM _____

DATE _____

8 exercices réussis ? C'est gagné !



Écris en chiffres.

huit : _____

cinq : _____

six : _____



Écris en lettres.

9 : _____

4 : _____

2 : _____



Ordonne par ordre croissant.

9 8 5 10 1

___ < ___ < ___ < ___ < ___



Complète la suite.

2 ___ 4 ___ 7 ___



Complète.

$7 + \underline{\quad} = 10$

8 pour aller à 10 : _____

$10 - 4 = \underline{\quad}$



Barre ce qui est faux.

$$2 \times 1 = 1$$

$$9 - 5 = 4$$

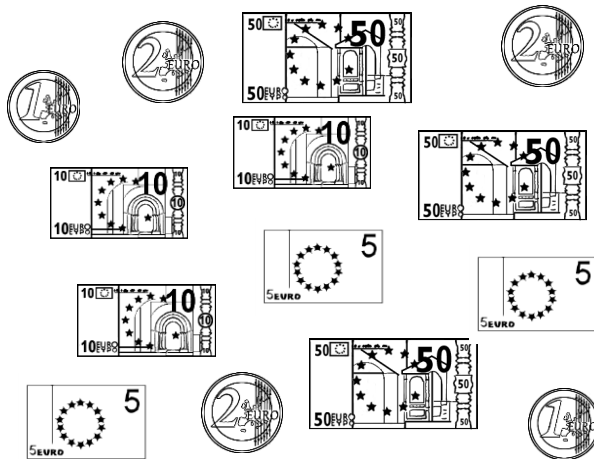
$$10 - 5 = 5$$

$$6 + 3 = 10$$

$$5 + 4 = 8$$



Entoure ce qui fait 8 €



Complète.

4, c'est la moitié de ____.

La moitié de 10 c'est ____.

____, c'est le double de 3.



Complète.

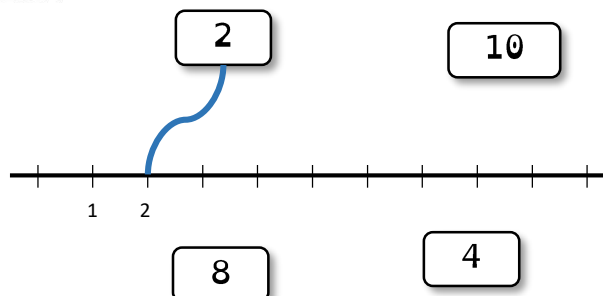
5 unités + 3 unités = ____

____ unités + 2 unités = 1 dizaine


2 unités + 7 unités = ____



Relie



Étoile dorée



NOM _____

DATE _____

8 exercices réussis ? C'est gagné !

Écris en chiffres.

quatre : _____

trois : _____

sept : _____

Écris en lettres.

8 : _____

6 : _____

5 : _____

Ordonne par ordre croissant.

6 8 5 9 1

___ < ___ < ___ < ___ < ___

Complète la suite.

4 ___ 7 ___ 10

Complète.

$10 - 8 =$ _____

$6 +$ _____ $= 10$

3 pour aller à 10 : _____

Barre ce qui est faux.

$2 \times 3 = 7$

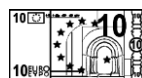
$1 - 5 = 4$

$8 + 2 = 10$

$6 + 4 = 10$

$10 - 5 = 5$

Entoure ce qui fait 9 €



Complète.

_____, c'est le double de 5.

4, c'est la moitié de ____.

La moitié de 6 c'est ____.

Complète.

___ unités + 8 unités = 1 dizaine

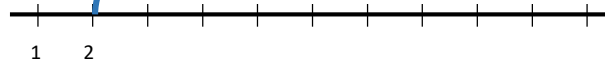
2 unités + ___ unités = 10

5 unités + 2 unités = ____

Relie

2


9



8

6

Étoile dorée



NOM _____

DATE _____

8 exercices réussis ? C'est gagné !



Écris en chiffres.

un : _____

neuf : _____

sept : _____



Écris en lettres.

5 : _____

3 : _____

4 : _____



Ordonne par ordre croissant.

9 8 4 2 1

___ < ___ < ___ < ___ < ___



Complète la suite.

___ ___ ___ ___ 7 8 9



Complète.

7 pour aller à 10 : _____

$10 - 6 =$ _____

$2 +$ _____ $= 10$



Barre ce qui est faux.

$2 \times 3 = 6$

$3 + 4 = 6$

$10 - 2 = 8$

$6 + 3 = 10$

$10 - 5 = 5$



Entoure ce qui fait 6 €



Complète.

La moitié de 6 c'est ____.

____, c'est le double de 4.

5, c'est la moitié de ____.



Complète.

8 unités + ____ unités = 10

5 unités + 3 unités = ____

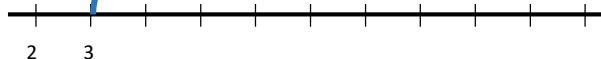
____ unités + 7 unités = 1 dizaine



Relie

3


10



7

6

Étoile dorée



NOM _____

DATE _____

8 exercices réussis ? C'est gagné !



Écris en chiffres.

deux : _____

neuf : _____

six : _____



Écris en lettres.

7 : _____

5 : _____

3 : _____



Ordonne par ordre croissant.

7 8 3 2 5

___ < ___ < ___ < ___ < ___



Complète la suite.

___ ___ ___ ___ 6 7 8



Complète.

$9 + \underline{\quad} = 10$

4 pour aller à 10 : _____

$10 - 7 = \underline{\quad}$



Barre ce qui est faux.

$2 \times 5 = 10$

$4 - 2 = 2$

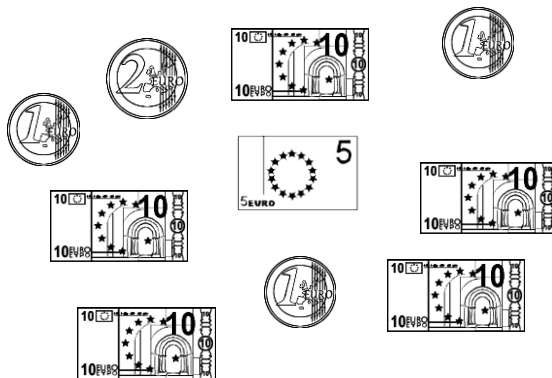
$8 + 2 = 10$

$6 + 3 = 10$

$2 - 8 = 6$



Entoure ce qui fait 8 €



Complète.

4, c'est la moitié de ____.

La moitié de 6 c'est ____.

____, c'est le double de 2.



Complète.

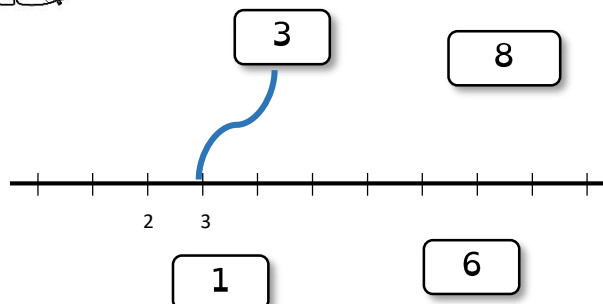
7 unités + 3 unités = ____

____ unités + 6 unités = 1 dizaine


8 unités + ____ unités = 10



Relie



Étoile orange



NOM _____

DATE _____

8 exercices réussis ? C'est gagné !



Écris en chiffres.

douze : _____

treize : _____

seize : _____



Écris en lettres.

20 : _____

15 : _____

28 : _____



Ordonne par ordre croissant.

17 8 13 20 5

___ < ___ < ___ < ___ < ___



Complète la suite.

3 6 9 12 _____



Complète.

$19 + \text{_____} = 20$

4 pour aller à 10 : _____

$20 - 7 = \text{_____}$



Barre ce qui est faux.

$2 \times 8 = 16$

$30 - 15 = 15$

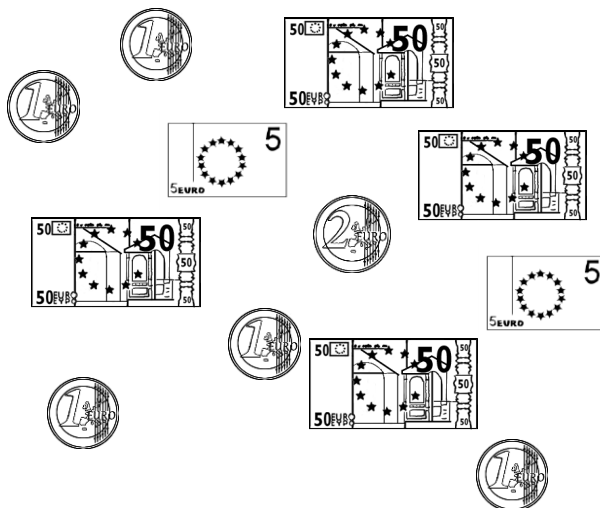
$13 + 5 = 19$

$18 + 7 = 25$

$20 - 10 = 10$



Entoure ce qui fait 17 €



Complète.

8, c'est la moitié de _____.

La moitié de 20 c'est _____.

_____, c'est le double de 15.



Complète.

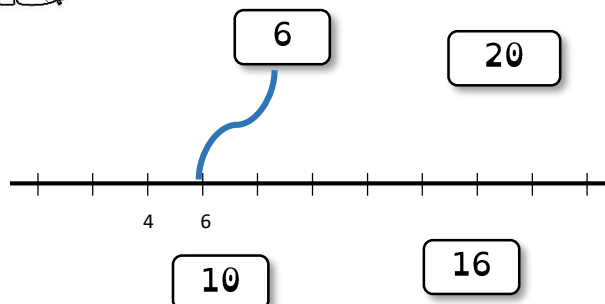
1 unité + 2 dizaines = _____

12 unités + _____ dizaine = 22


_____ dizaines + _____ unités = 24



Relie



Étoile orange



B

NOM _____

DATE _____

8 exercices réussis ? C'est gagné !



Écris en chiffres.

vingt-cinq : _____

dix-neuf : _____

onze : _____



Écris en lettres.

16 : _____

13 : _____

30 : _____



Ordonne par ordre croissant.

17 8 30 20 12

___ < ___ < ___ < ___ < ___



Complète la suite.

10 ___ 14 ___ 20 _____



Complète.

$10 - 7 =$ _____

$17 +$ _____ $= 20$

24 pour aller à 30 : _____



Barre ce qui est faux.

$2 \times 9 = 16$

$15 + 15 = 30$

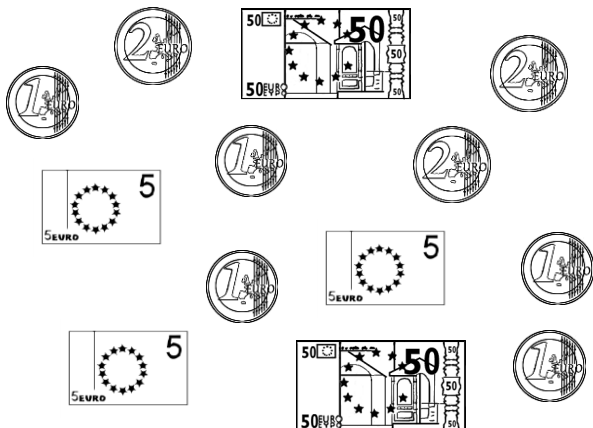
$22 - 3 = 20$

$2 - 6 = 4$

$6 + 6 = 11$



Entoure ce qui fait 23 €



Complète.

_____, c'est le double de 11.

12, c'est la moitié de _____.

La moitié de 30 c'est _____.



Complète.

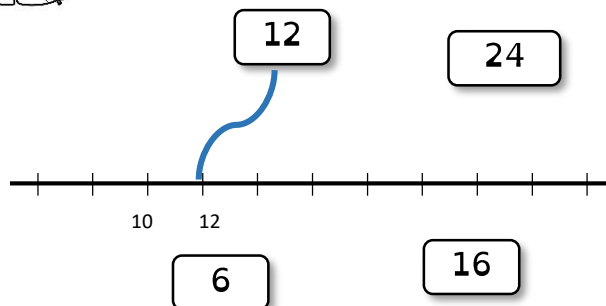
7 unités + 2 dizaines = _____

1 dizaine + ___ unités = 11

16 unités + ___ dizaine(s) = 26



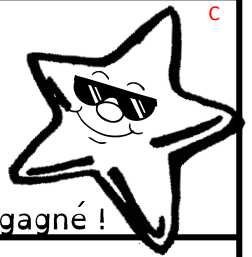
Relie



NOM _____

DATE _____

Étoile orange



8 exercices réussis ? C'est gagné !



Écris en chiffres.

vingt-trois : _____

trente : _____

douze : _____



Écris en lettres.

11 : _____

15 : _____

21 : _____



Ordonne par ordre croissant.

17 28 30 29 12

___ < ___ < ___ < ___ < ___



Complète la suite.

6 9 12 15 _____



Complète.

18 pour aller à 20 : _____

$30 - 7 =$ _____

$26 +$ _____ $= 30$



Barre ce qui est faux.

$2 \times 15 = 30$

$15 + 15 = 30$

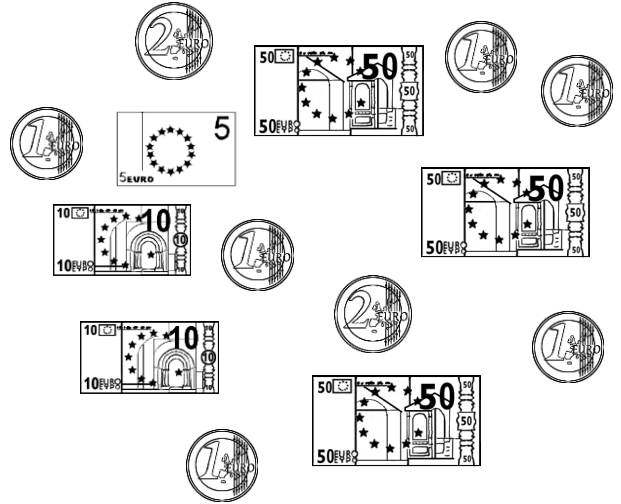
$22 + 8 = 30$

$2 - 10 = 8$

$22 - 6 = 16$



Entoure ce qui fait 30 €



Complète.

La moitié de 24 c'est _____.

_____, c'est le double de 14.

13, c'est la moitié de _____.



Complète.

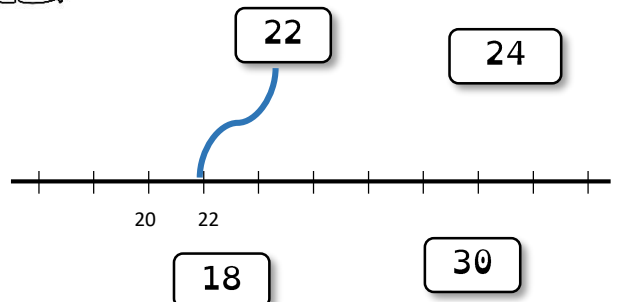
2 dizaines + 10 unités = _____

___ unités + 1 dizaine = 19

14 unités + 1 dizaine = _____



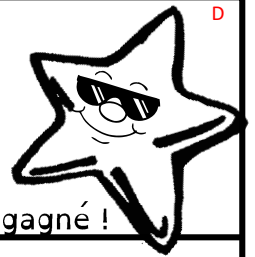
Relie



NOM _____

DATE _____

Étoile orange



8 exercices réussis ? C'est gagné !



Écris en chiffres.

vingt-et-un : _____

dix-huit : _____

quinze : _____



Écris en lettres.

12 : _____

24 : _____

17 : _____



Ordonne par ordre croissant.

27 18 30 24 25

___ < ___ < ___ < ___ < ___



Complète la suite.

14 16 _____ 22 _____ 28



Complète.

$16 + \text{_____} = 30$

15 pour aller à 20 : _____

$20 - 8 = \text{_____}$



Barre ce qui est faux.

$2 \times 10 = 20$

$12 + 12 = 24$

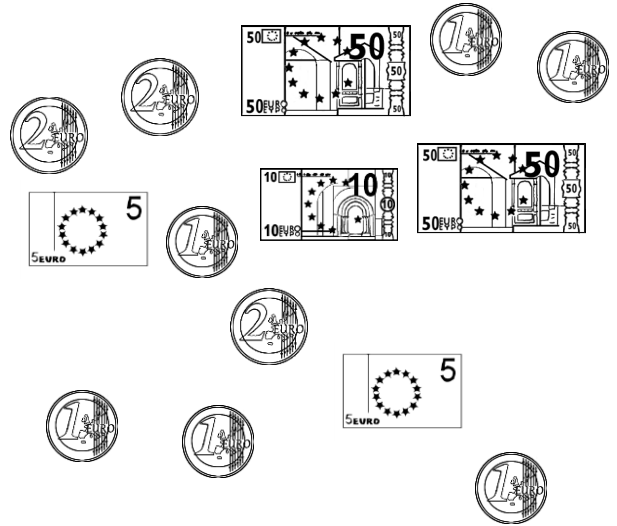
$26 + 5 = 30$

$7 - 10 = 3$

$20 - 6 = 14$



Entoure ce qui fait 29 €



Complète.

9, c'est la moitié de _____.

La moitié de 28 c'est _____.

_____, c'est le double de 12.



Complète.

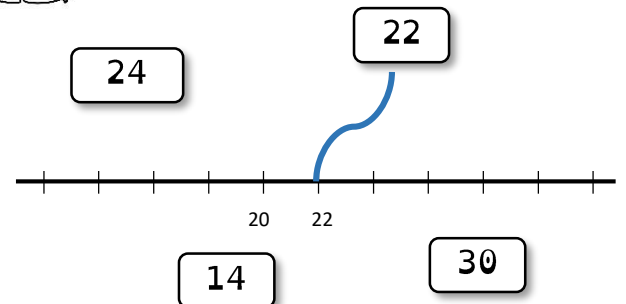
8 unités + 2 dizaines = _____

1 dizaine + ___ unités = 20

6 unités + 2 dizaines = _____



Relie



Étoile rouge



NOM _____

DATE _____

8 exercices réussis ? C'est gagné !



1 Écris en chiffres.

cinquante-sept : _____

quarante-huit : _____

treize : _____



2 Écris en lettres.

39 : _____

47 : _____

21 : _____



3 Ordonne par ordre croissant.

51 8 19 27 40

___ < ___ < ___ < ___ < ___



4 Complète la suite.

20 ___ 30 ___ 45 50



5 Complète.

40 + _____ = 60

32 pour aller à 40 : _____

50 - 30 = _____



6 Barre ce qui est faux.

$2 \times 20 = 40$

$52 - 57 = 5$

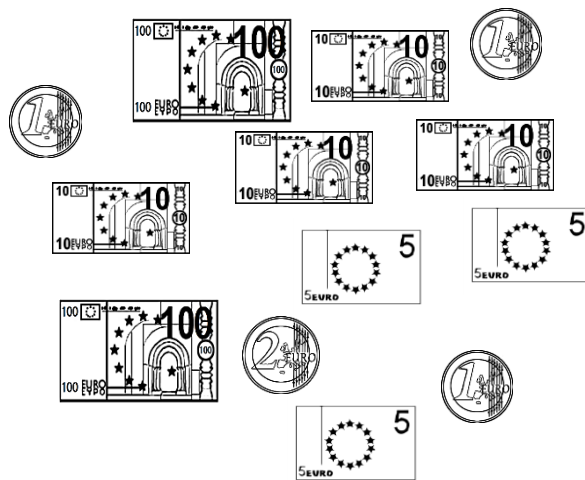
$50 - 15 = 35$

$20 + 12 = 42$

$10 \times 5 = 50$



7 Entoure ce qui fait 54 €



8 Complète.

20, c'est la moitié de _____.

La moitié de 50 c'est _____.

_____, c'est le double de 15.



9 Complète.

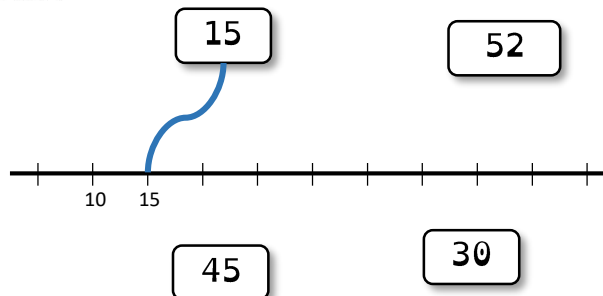
3 unités + 4 dizaines = _____

21 unités + ___ dizaines = 51


3 dizaines + 2 dizaines = _____



10 Relie



Étoile rouge



B

NOM _____

DATE _____

8 exercices réussis ? C'est gagné !



Écris en chiffres.

trente-trois : _____

vingt-huit : _____

cinquante-sept : _____



Écris en lettres.

31 : _____

26 : _____

45 : _____



Ordonne par ordre croissant.

60 42 19 7 38

___ < ___ < ___ < ___ < ___



Complète la suite.

10 ___ 40 ___ 60



Complète.

$50 - 20 =$ _____

$33 +$ _____ $= 40$

40 pour aller à 60 : _____



Barre ce qui est faux.

$35 + 6 = 51$

$40 - 15 = 35$

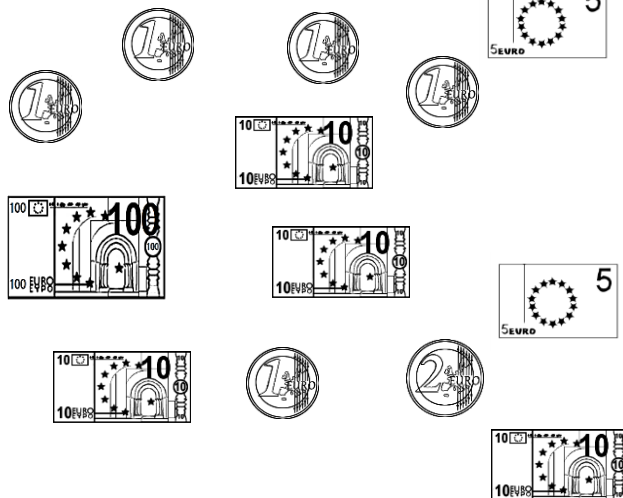
$52 - 5 = 47$

$20 \times 3 = 60$

$2 \times 25 = 40$



Entoure ce qui fait 56 €



Complète.

La moitié de 20 c'est _____.

_____, c'est le double de 25.

30, c'est la moitié de _____.



Complète.

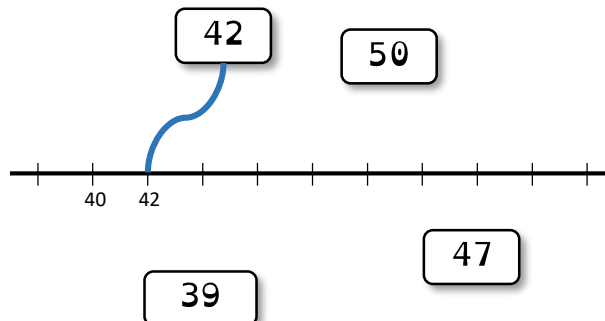
2 dizaines + 3 dizaines = _____

15 unités + 2 dizaines = _____


___ unités + ___ dizaines = 42



Relie



Étoile rouge



NOM _____

DATE _____

8 exercices réussis ? C'est gagné !



Écris en chiffres.

cinquante-quatre : _____

quinze : _____

quarante : _____



Écris en lettres.

22 : _____

37 : _____

51 : _____



Ordonne par ordre croissant.

52 29 30 8 21

___ < ___ < ___ < ___ < ___



Complète la suite.

___ 50 55 60



Complète.

57 pour aller à 60 : _____

$50 - 10 =$ _____

$25 +$ _____ $= 50$



Barre ce qui est faux.

$30 \times 2 = 60$

$32 - 37 = 5$

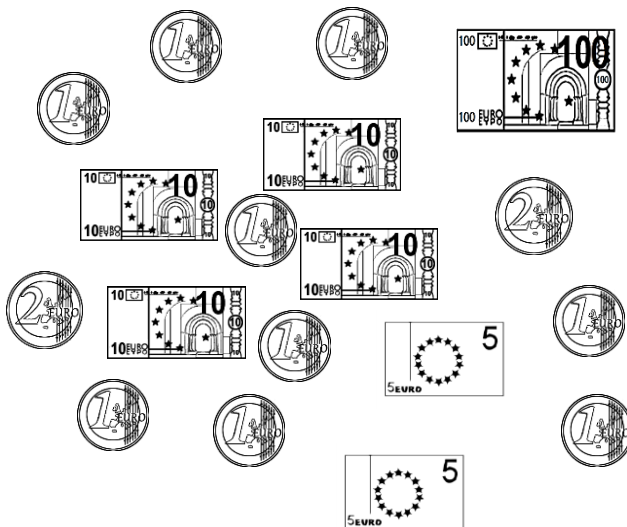
$50 - 25 = 25$

$45 + 10 = 55$

$10 \times 4 = 40$



Entoure ce qui fait 60 €



Complète.

_____, c'est le double de 25.

30, c'est la moitié de _____.

La moitié de 20 c'est _____.



Complète.

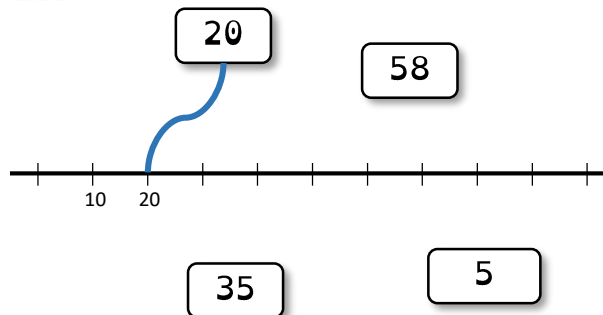
___ unités + ___ dizaines = 41

4 dizaines + 10 unités = _____


2 unités + 5 dizaines = _____



Relie



Étoile rouge



NOM _____

DATE _____

8 exercices réussis ? C'est gagné !



Écris en chiffres.

douze : _____

quarante-neuf : _____

cinquante : _____



Écris en lettres.

37 : _____

41 : _____

28 : _____



Ordonne par ordre croissant.

8 56 39 30 42

___ < ___ < ___ < ___ < ___



Complète la suite.

50 45 40 _____



Complète.

$39 + \text{_____} = 50$

40 pour aller à 60 : _____

$50 - 25 = \text{_____}$



Barre ce qui est faux.

$40 - 60 = 20$

$15 + 25 = 30$

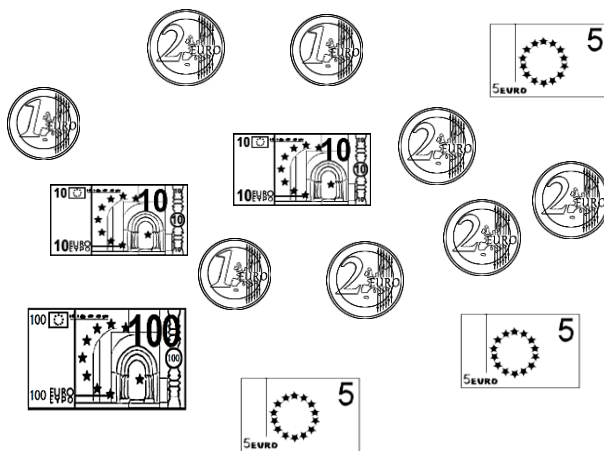
$52 - 5 = 47$

$3 \times 15 = 60$

$25 \times 2 = 50$



Entoure ce qui fait 41 €



Complète.

20, c'est la moitié de _____.

La moitié de 50 c'est _____.

_____, c'est le double de 8.



Complète.

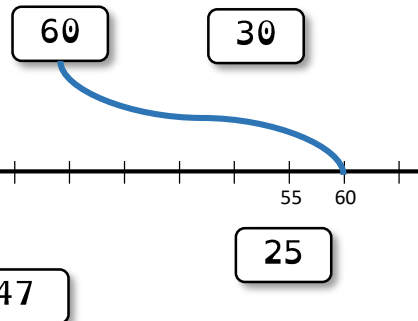
25 unités + 3 dizaines = _____

____ unités + ____ dizaines = 54

2 dizaines + 1 dizaine = _____



Relie



Étoile verte



NOM _____

DATE _____

8 exercices réussis ? C'est gagné !



Écris en chiffres.

quatre-vingt-dix-sept : _____

soixante-huit : _____

soixante-treize : _____



Écris en lettres.

79 : _____

37 : _____

91 : _____



Ordonne par ordre croissant.

79 84 58 100 91

___ < ___ < ___ < ___ < ___



Complète la suite.

60 ___ 70 ___ 85 90



Complète.

70 + _____ = 100

89 pour aller à 100 : _____

100 - 20 = _____



Barre ce qui est faux.

2 x 50 = 100

92 - 15 = 77

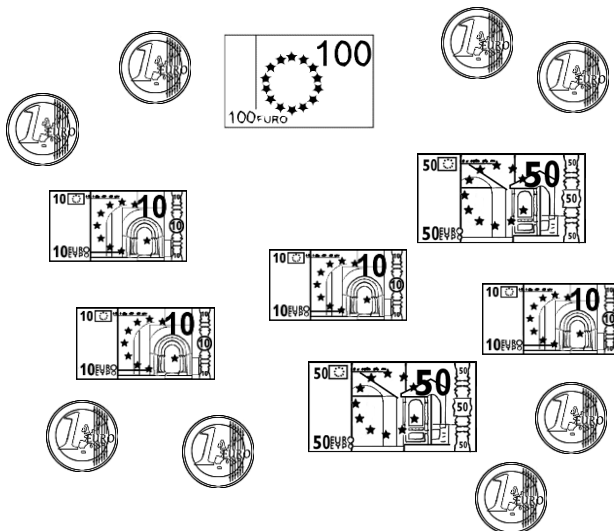
75 - 100 = 25

65 + 6 = 81

25 x 5 = 100



Entoure ce qui fait 84 €



Complète.

40, c'est la moitié de _____.

La moitié de 100 c'est _____.

_____, c'est le double de 25.



Complète.

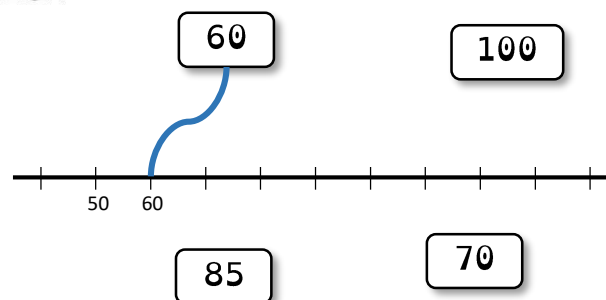
25 unités + 5 dizaines = _____

____ unités + ____ dizaines = 74


5 dizaines + 5 dizaines = _____



Relie



Étoile verte



NOM _____

DATE _____

8 exercices réussis ? C'est gagné !



Écris en chiffres.

soixante-trois : _____

quatre-vingt-dix-huit : _____

quatre-vingt-un : _____



Écris en lettres.

92 : _____

73 : _____

56 : _____



Ordonne par ordre croissant.

100 92 75 83 48

___ < ___ < ___ < ___ < ___



Complète la suite.

50 55 60 _____



Complète.

$100 - 30 =$ _____

$80 +$ _____ $= 100$

78 pour aller à 100 : _____



Barre ce qui est faux.

$81 - 16 = 65$

$85 + 25 = 100$

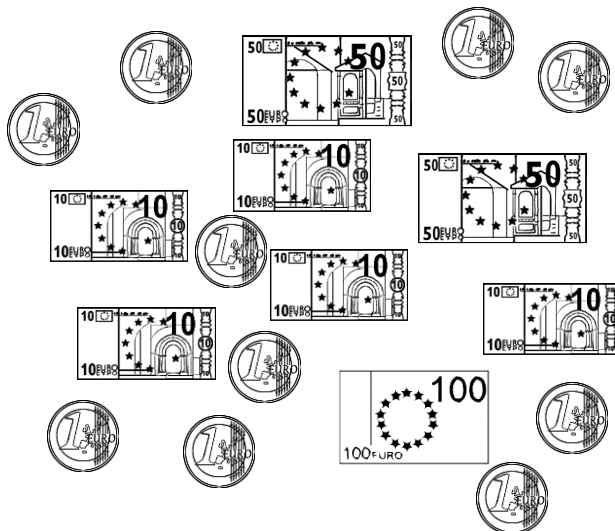
$92 - 5 = 87$

$25 \times 5 = 100$

$2 \times 50 = 100$



Entoure ce qui fait 76 €



Complète.

50, c'est la moitié de _____.

La moitié de 80 c'est _____.

_____, c'est le double de 30.



Complète.

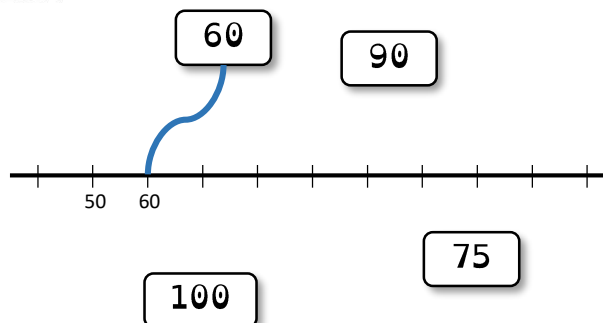
10 dizaines = _____

3 unités + 5 dizaines = _____

74 unités + ___ dizaines = 94




Relie



NOM _____

DATE _____

Étoile verte



8 exercices réussis ? C'est gagné !



Écris en chiffres.

quatre-vingt-quatre : _____

soixante-quinze : _____

quatre-vingt-treize : _____



Écris en lettres.

76 : _____

94 : _____

41 : _____



Ordonne par ordre croissant.

82 29 100 93 71

___ < ___ < ___ < ___ < ___



Complète la suite.

___ 90 95 100



Complète.

87 pour aller à 100 : _____

$100 - 10 =$ _____

$75 +$ _____ $= 100$



Barre ce qui est faux.

$50 \times 2 = 100$

$25 - 100 = 75$

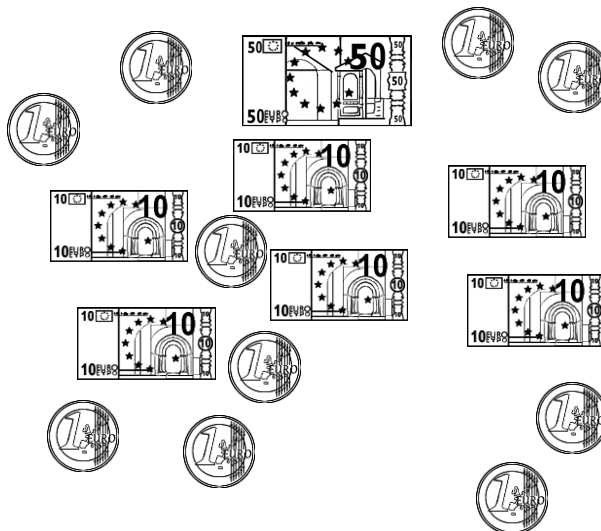
$92 - 15 = 77$

$72 + 37 = 100$

$25 \times 4 = 100$



Entoure ce qui fait 100 €



Complète.

25, c'est la moitié de _____.

La moitié de 60 c'est _____.

_____, c'est le double de 50.



Complète.

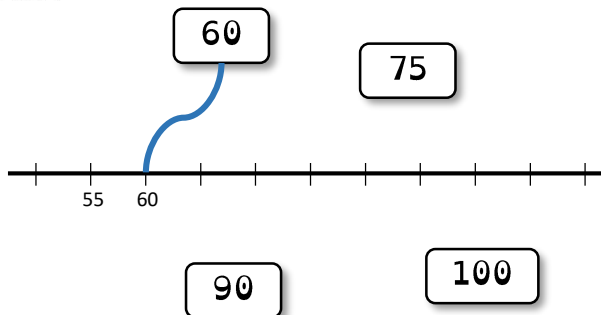
___ unités + 6 dizaines = 74

9 dizaines + 10 unités = _____

2 unités + 8 dizaines = _____




Relie



NOM _____

DATE _____

Étoile verte



8 exercices réussis ? C'est gagné !



Écris en chiffres.

soixante-douze : _____

quatre-vingt-dix-neuf : _____

soixante-deux : _____



Écris en lettres.

35 : _____

78 : _____

95 : _____



Ordonne par ordre croissant.

78 86 39 100 92

___ < ___ < ___ < ___ < ___



Complète la suite.

100 95 90 _____



Complète.

$89 + \text{_____} = 100$

80 pour aller à 100 : _____

$100 - 25 = \text{_____}$



Barre ce qui est faux.

$78 - 83 = 5$

$75 + 25 = 100$

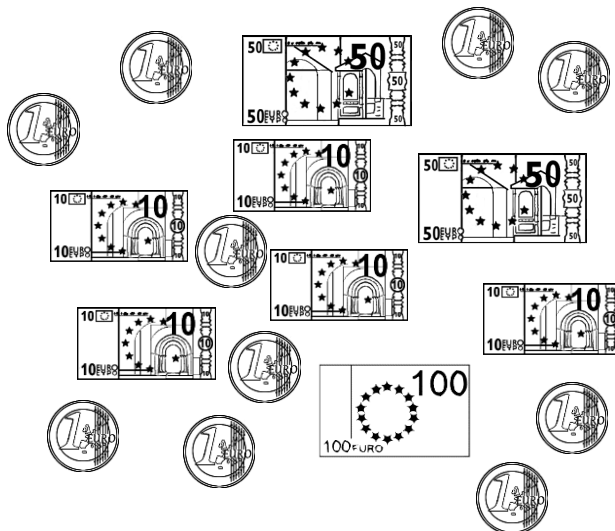
$92 - 15 = 73$

$5 \times 20 = 100$

$50 \times 2 = 100$



Entoure ce qui fait 91 €



Complète.

50, c'est la moitié de _____.

La moitié de 60 c'est _____.

_____, c'est le double de 25.



Complète.

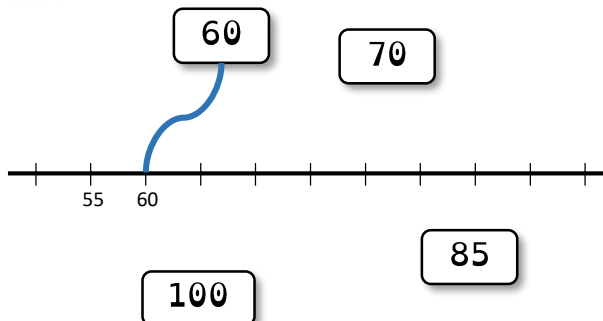
5 unités + 9 dizaines = _____

____ unités + 3 dizaines = 73

2 dizaines + 8 dizaines = _____




Relie



NOM _____

DATE _____

étoile bleue



8 exercices réussis ? C'est gagné !



Écris en chiffres.

deux-cent-quatre-vingts : _____

neuf-cent-trois : _____

cent-soixante-quatre : _____



Écris en lettres.

196 : _____

436 : _____

607 : _____



Ordonne par ordre croissant.

489 803 99 123 450

___ < ___ < ___ < ___ < ___



Complète la suite.

320 315 310 _____



Complète.

985 + _____ = 1 000

200 pour aller à 1 000 : _____

1 000 - 510 = _____



Barre ce qui est faux.

650 + 350 = 1 000

570 + 530 = 1000

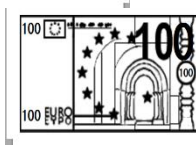
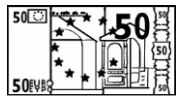
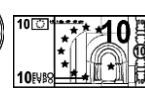
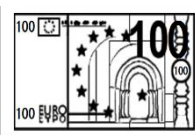
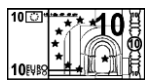

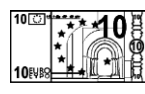
500 - 250 = 350

100 x 10 = 1 000

900 - 1 000 = 100



Entoure ce qui fait 321 €



Complète.

325, c'est la moitié de _____.

La moitié de 250 c'est _____.

_____, c'est le double de 400.



Complète.

5 unités + 9 centaines = _____

___ dizaines + ___ centaines = 450

25 dizaines + 2 centaines = _____



Relie

100

340



100

500


900

620

NOM _____

DATE _____

étoile bleue



8 exercices réussis ? C'est gagné !



Écris en chiffres.

sept-cent-huit : _____

cent-vingt-six : _____

deux-cent-soixante-seize : _____



Écris en lettres.

200 : _____

621 : _____

537 : _____



Ordonne par ordre croissant.

24 673 987 540 1 000

___ < ___ < ___ < ___ < ___



Complète la suite.

457 467 477 _____



Complète.

450 + _____ = 1 000

700 pour aller à 1 000 : _____

1 000 - 920 = _____



Barre ce qui est faux.

450 + 550 = 1 000

942 + 58 = 1000

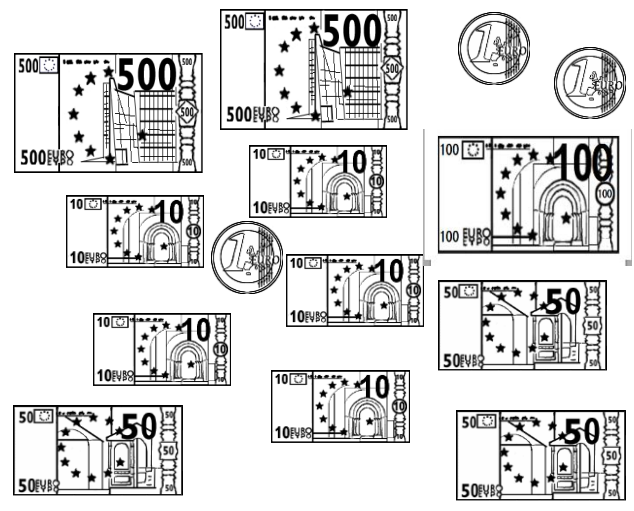
500 - 250 = 250

10 x 10 = 1 000

1 000 - 500 = 500



Entoure ce qui fait 741 €



Complète.

_____, c'est le double de 500.

230, c'est la moitié de _____.

La moitié de 450 c'est _____.



Complète.

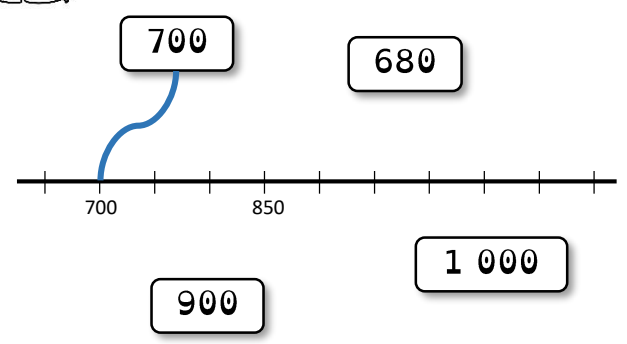
35 dizaines + 1 centaine = _____

___ centaines + ___ unités = 405

9 dizaines + 3 dizaines = _____



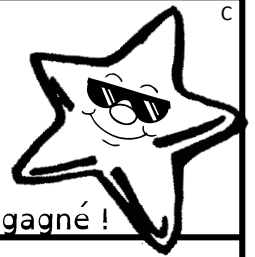
Relie



NOM _____

DATE _____

étoile bleue



8 exercices réussis ? C'est gagné !



Écris en chiffres.

huit-cent-douze : _____

deux-cent-quatre : _____

huit-cent-trente-sept : _____



Écris en lettres.

380 : _____

114 : _____

731 : _____



Ordonne par ordre croissant.

567 43 809 123 456

___ < ___ < ___ < ___ < ___



Complète la suite.

253 263 273 _____



Complète.

$650 + \underline{\hspace{2cm}} = 1\ 000$

300 pour aller à 1 000 : _____

$1\ 000 - 10 = \underline{\hspace{2cm}}$



Barre ce qui est faux.

$350 + 650 = 1\ 000$

$950 - 1000 = 50$

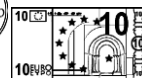
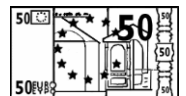


$100 \times 2 = 1\ 000$

$250 \times 4 = 1\ 000$

$1\ 000 - 100 = 900$



Entoure ce qui fait 1 000 €



Complète.

250, c'est la moitié de _____.

La moitié de 1 000 c'est _____.

_____, c'est le double de 400.



Complète.

16 unités + 4 centaines = _____

___ centaines + ___ dizaines = 930

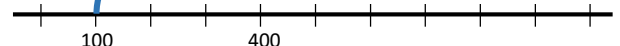
2 centaines + 62 dizaines = _____



Relie

100

280



100

400

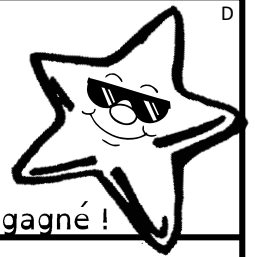
640

1 000

NOM _____

DATE _____

étoile bleue



8 exercices réussis ? C'est gagné !



Écris en chiffres.

mille : _____

cent-quatre-vingts : _____

sept-cent-treize : _____



Écris en lettres.

420 : _____

231 : _____

902 : _____



Ordonne par ordre croissant.

500 378 89 1 000 652

___ < ___ < ___ < ___ < ___



Complète la suite.

956 946 936 _____



Complète.

750 + _____ = 1 000

500 pour aller à 1 000 : _____

1 000 - 405 = _____



Barre ce qui est faux.

1 000 - 250 = 850

920 + 80 = 1000

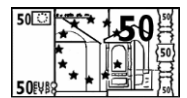



400 x 2 = 1 000

10 x 100 = 1 000

100 - 1000 = 900



Entoure ce qui fait 404 €



Complète.

La moitié de 650 c'est _____.

_____, c'est le double de 500.

250, c'est la moitié de _____.



Complète.

8 dizaines + 3 centaines = _____

____ unités + ____ dizaines = 432

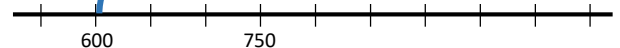
3 centaines + 7 centaines = _____



Relie

600

820



600

750


700

1 000

NOM _____

DATE _____

étoile violette



8 exercices réussis ? C'est gagné !



1 Écris en chiffres.

mille-trois : _____

quatre-mille-soixante-dix : _____

sept-mille-trois-cent-deux : _____



2 Écris en lettres.

1 231 : _____

3 420 : _____

9 600 : _____



3 Ordonne par ordre croissant.

1 232 674 5 076 1 000 6 502

___ < ___ < ___ < ___ < ___



4 Complète la suite.

4 047 ■ 4 037 ■ 4 027 ■ _____ ■ _____ ■ _____



5 Complète.

9 230 + _____ = 10 000

8 500 pour aller à 10 000 : _____

10 000 - 4 000 = _____



6 Barre ce qui est faux.

8 500 + 2 500 = 10 000

8 500 - 550 = 8 050

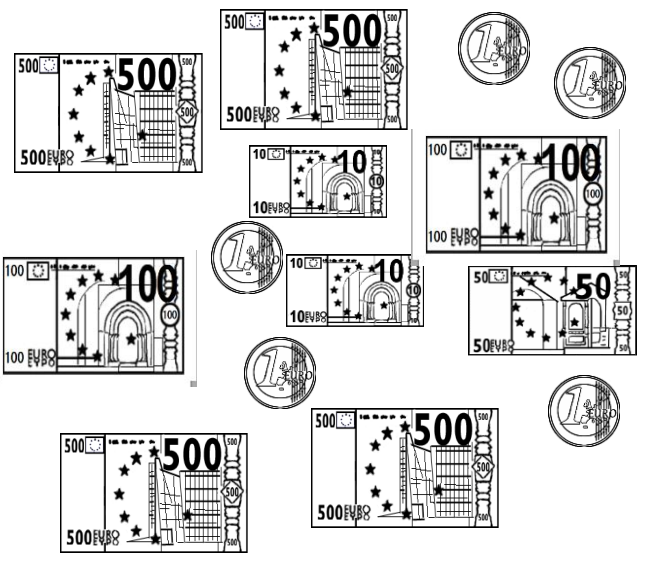
500 x 2 = 10 000

10 x 100 = 10 000

10 000 - 2 500 = 7 500



7 Entoure ce qui fait 2 104 €



8 Complète.

1 050, c'est la moitié de _____.

La moitié de 5 500 c'est _____.

_____, c'est le double de 4 000.



9 Complète.

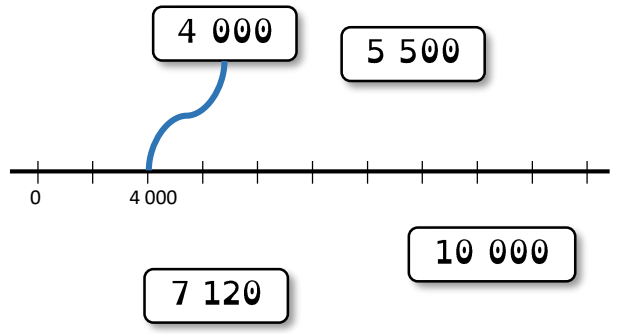
23 dizaines + 5 milliers = _____

_____ centaines = 1 300

8 centaines + 14 centaines = _____




10 Relie



NOM _____

DATE _____

étoile violette



8 exercices réussis ? C'est gagné !



1 Écris en chiffres.

mille-quatre-cents : _____

six-mille-quatorze : _____

deux-mille-cinq-cent-six : _____



2 Écris en lettres.

9 500 : _____

4 671 : _____

2 024 : _____



3 Ordonne par ordre croissant.

3 520 5 629 8 517 100 6 923

___ < ___ < ___ < ___ < ___



4 Complète la suite.

4 963 ■ 4 973 ■ 4 983 ■ _____ ■ _____ ■ _____



5 Complète.

9 000 + _____ = 10 000

8 520 pour aller à 10 000 : _____

10 000 - 500 = _____



6 Barre ce qui est faux.

8 500 + 1 500 = 10 000

9 900 - 950 = 8 950

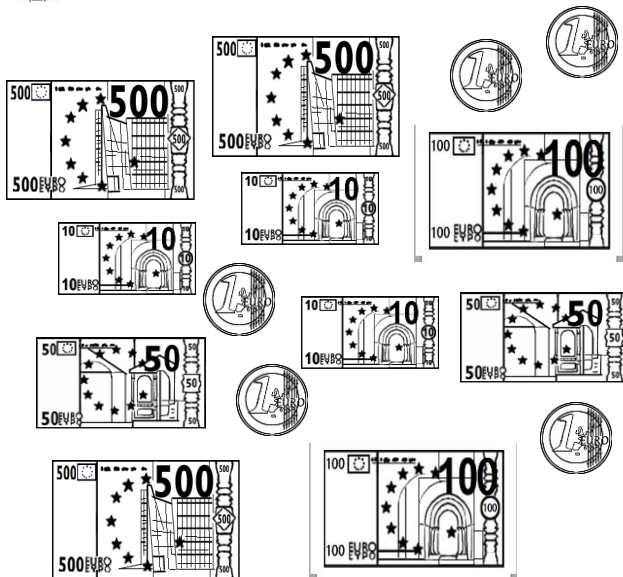
5 000 x 2 = 10 000

100 x 10 = 10 000

10 000 - 500 = 5 000



Entoure ce qui fait 1 621 €



7 Complète.

2 050, c'est la moitié de _____.

La moitié de 8 000 c'est _____.

_____, c'est le double de 2 500.



8 Complète.

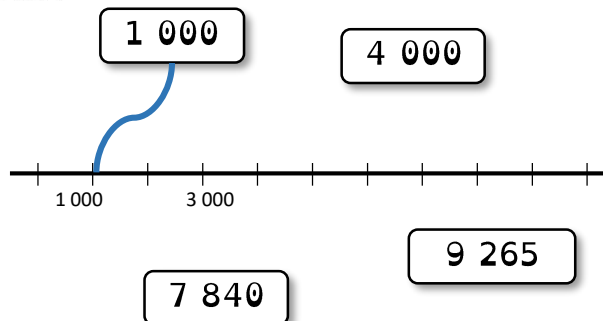
_____ dizaines = 3 700

65 centaines + 7 centaines = _____

35 centaines + 4 milliers = _____



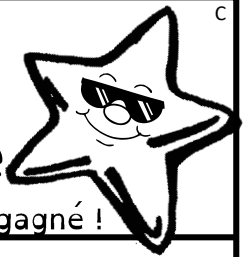
Relie



NOM _____

DATE _____

étoile violette



8 exercices réussis ? C'est gagné !



Écris en chiffres.

neuf-mille-vingt : _____

cinq-mille-soixante-treize : _____

deux-mille-cinq-cent-six : _____



Écris en lettres.

3 981 : _____

1 521 : _____

7 035 : _____



Ordonne par ordre croissant.

6 785 5 432 857 10 000 9 023

___ < ___ < ___ < ___ < ___



Complète la suite.

9 476 ■ 9 376 ■ 9 276 ■ _____ ■ _____ ■ _____



Complète.

$9\,240 + \underline{\hspace{2cm}} = 10\,000$

5 000 pour aller à 10 000 : _____

$10\,000 - 8\,500 = \underline{\hspace{2cm}}$



Barre ce qui est faux.

$7\,500 + 2\,500 = 10\,000$

$10\,000 - 450 = 9\,550$

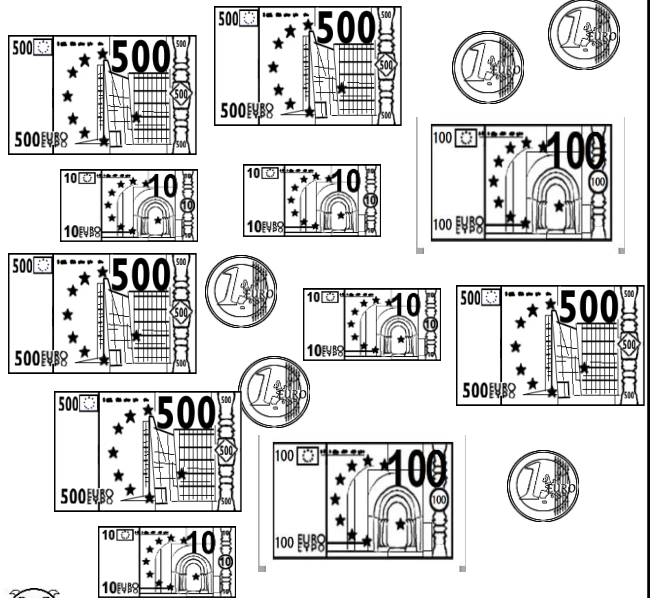
$1\,000 \times 10 = 10\,000$

$5\,000 \times 5 = 10\,000$

$10\,000 - 8\,000 = 2\,000$



Entoure ce qui fait 2 034 €



Complète.

2 500, c'est la moitié de _____.

La moitié de 6 050 c'est _____.

_____, c'est le double de 2 000.



Complète.

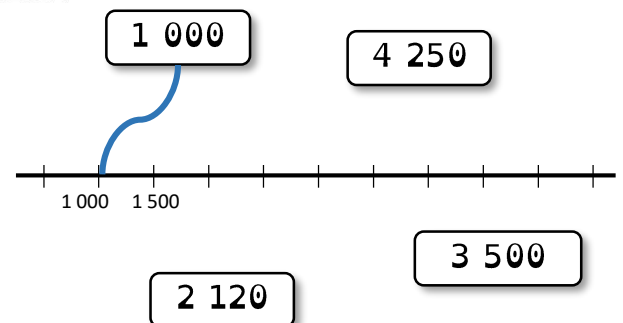
45 centaines + 7 centaines = _____

2 milliers + 35 dizaines = _____

_____ centaines = 6 700




Relie



NOM _____

DATE _____

étoile violette



8 exercices réussis ? C'est gagné !



Écris en chiffres.

cinq-mille-trois : _____

mille-cent-trente-trois : _____

deux-mille-huit-cents : _____



Écris en lettres.

10 000 : _____

2 041 : _____

6 725 : _____



Ordonne par ordre croissant.

3 549 2 850 967 9 000 9 230

___ < ___ < ___ < ___ < ___



Complète la suite.

1 452 ■ 1 352 ■ 1 252 ■ _____ ■ _____ ■ _____



Complète.

$8\,760 + \text{_____} = 10\,000$

4 500 pour aller à 10 000 : _____

$10\,000 - 100 = \text{_____}$



Barre ce qui est faux.

$7\,500 + 3\,500 = 10\,000$

$2\,500 + 2\,500 = 5\,000$

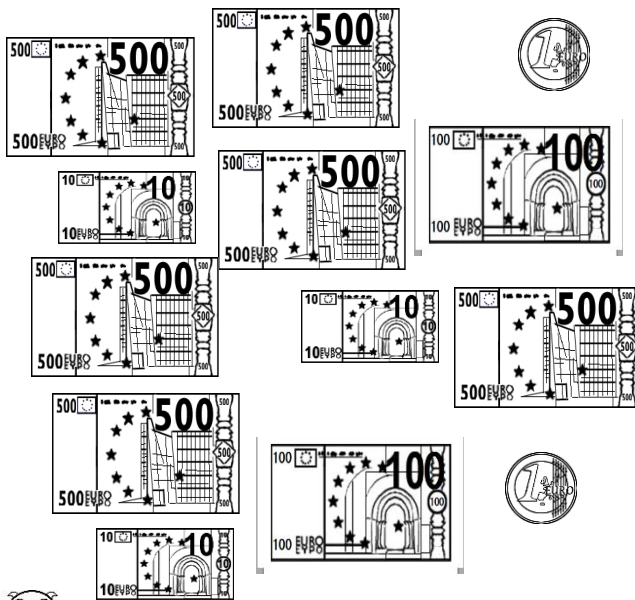
$1\,000 \times 100 = 10\,000$

$5\,000 \times 2 = 10\,000$

$3\,000 - 10\,000 = 7\,000$



Entoure ce qui fait 2 101 €



Complète.

2 050, c'est la moitié de _____.

La moitié de 5 000 c'est _____.

_____, c'est le double de 4 500.



Complète.

1 millier + 42 centaines = _____

_____ dizaines = 6 200

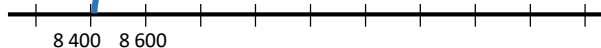
24 centaines + 8 centaines = _____



Relie

8 400

9 400



8 200

9 020