


Étoile dorée



A

NOM _____

DATE _____

8 soleils ? C'est gagné !



Souligne les mots

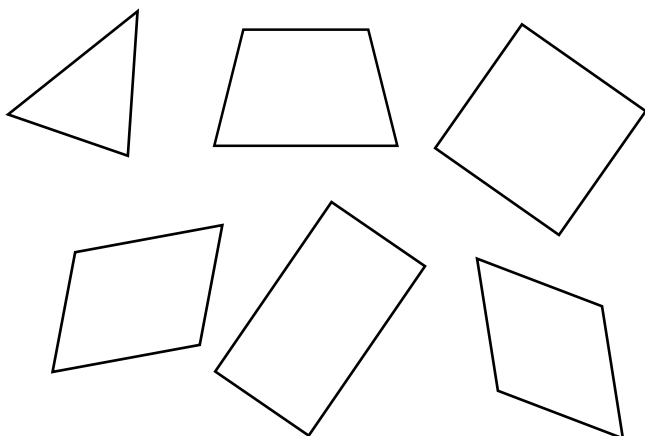
Les traits sont droits et à leur place



chien	souris	baleine
crocodile	chat	lapin



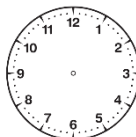
Entoure un carré en rouge, un triangle en bleu et un rectangle en vert.



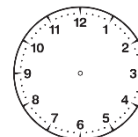
Quelle heure est-il ?



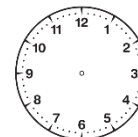
Dessine les aiguilles.



8 h



2 h



midi



Quadrillage



	A	B	C	D	E	F
1						
2		✂				
3						
4				♫		
5						
6			♫			



Écris la suite des jours (attention à l'orthographe).

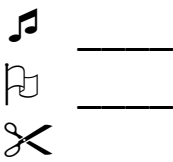
jeudi



vendredi



Complète les coordonnées



Dessine les symboles

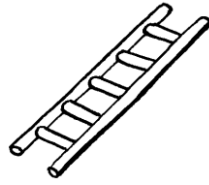




Complète avec les mots *litres*, *kilos* ou *mètres*.



Ce chien pèse
12 _____.




Cette échelle
mesure
3 _____
de haut.



Cette bouteille
contient
2 _____ d'eau.




Avec de la monnaie...




Dans mon
portemonnaie,
il y a _____ euros.

Entoure ce qu'il faut pour
acheter le jouet



Étoile dorée

B



NOM _____

DATE _____

8 soleils ? C'est gagné !



Souligne les mots


Les traits sont droits et à leur place



chien	souris	baleine
crocodile	chat	lapin



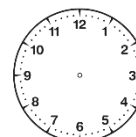
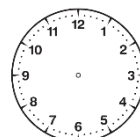
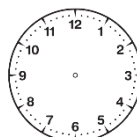
Entoure un carré en vert, un triangle en rouge et un rectangle en bleu.



Quelle heure est-il ?



Dessine les aiguilles.



midi

7 h

10 h



Quadrillage



	A	B	C	D	E	F
1						
2						♫
3						
4		✂				
5						
6				♫		



Écris la suite des jours (attention à l'orthographe).

mercredi

jeudi



Complète les coordonnées

♫ _____
 ♫ _____
 ✂ _____

Dessine les symboles

◆ : E 1
 ○ : D 4
 □ : A 6



Complète avec les mots *litres*, *kilos* ou *mètres*.



Ce seau contient
5 _____ d'eau.



Ce chat pèse
3 _____ .



Cette maison
mesure
10 _____
de haut.

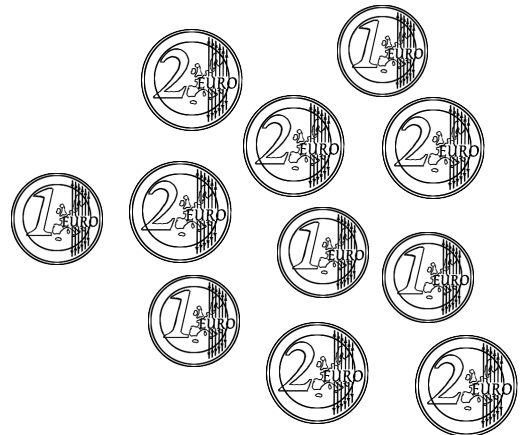


Avec de la monnaie...



Dans mon
portemonnaie,
il y a _____ euros.


Entoure ce qu'il faut pour
acheter le jouet



NOM _____

DATE _____

Étoile dorée



C

8 soleils ? C'est gagné !



Souligne les mots


Les traits sont droits et à leur place



chien	souris	baleine
crocodile	chat	lapin



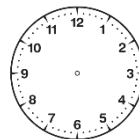
Entoure un carré en bleu, un triangle en vert et un rectangle en rouge.



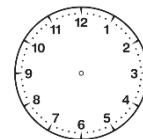
Quelle heure est-il ?



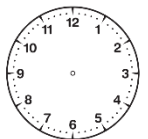
Dessine les aiguilles.



9 h



midi



5 h



Quadrillage



	A	B	C	D	E	F
1						
2	♪					
3						
4					✂	
5						
6		♠				



Écris la suite des jours (attention à l'orthographe).

dimanche

lundi



Complète les coordonnées

♪ _____

♠ _____

✂ _____

Dessine les symboles

◆ : F 1

○ : E 6

□ : B 3



Complète avec les mots *litres*, *kilos* ou *mètres*.



Cette arrosoir
contient
10 _____ d'eau.




Ce bus mesure
12 _____
de long.



Ce lapin pèse
3 _____.




Avec de la monnaie...



Dans mon
portemonnaie,
il y a _____ euros.


Entoure ce qu'il faut pour
acheter le jouet



NOM _____

DATE _____

Étoile orange



A

8 soleils ? C'est gagné !



Souligne les dates.


Les traits sont droits et à leur place



Jeudi 9 septembre									
Vendredi 17 décembre									



Repasse un côté du carré en bleu et entoure un sommet du rectangle.



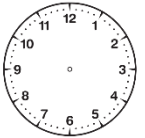
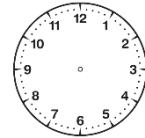
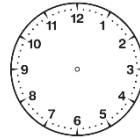
Quelle heure est-il ?



_____	_____	_____
-------	-------	-------



Dessine les aiguilles.



midi et demi

2 h

3h et demi



Sur le quadrillage...



	A	B	C	D	E	F
1					♫	
2	✂					
3						
4						
5			♫			

Complète les coordonnées

Dessine les symboles

♫ _____

♫ _____

✂ _____

◆ : D 5

● : A 4

■ : E 2



Écris les trois mois suivants.

mai


juin

juillet

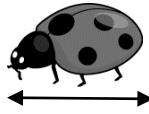




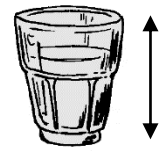
Complète avec mm ou cm.



Cette montre mesure 24 _____.



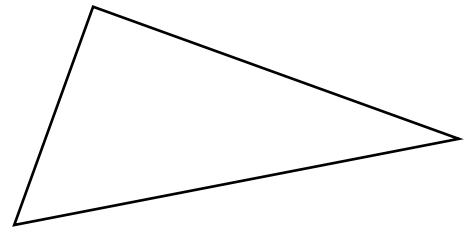
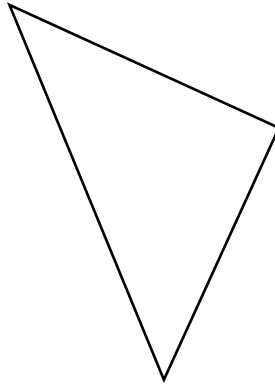
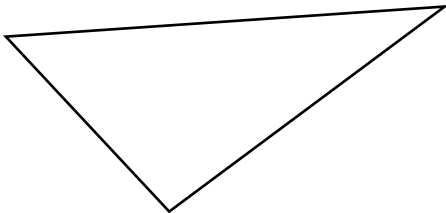
Cette coccinelle mesure 6 _____.



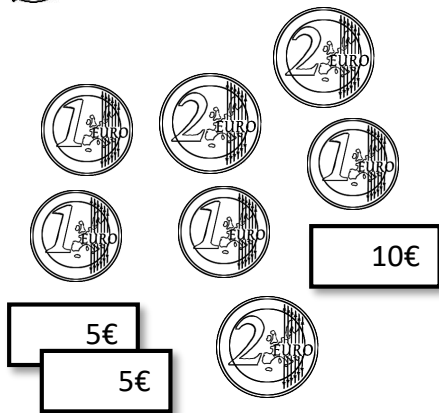
Ce verre mesure 8 _____.



Code les angles droits dans ces triangles, s'ils en ont.

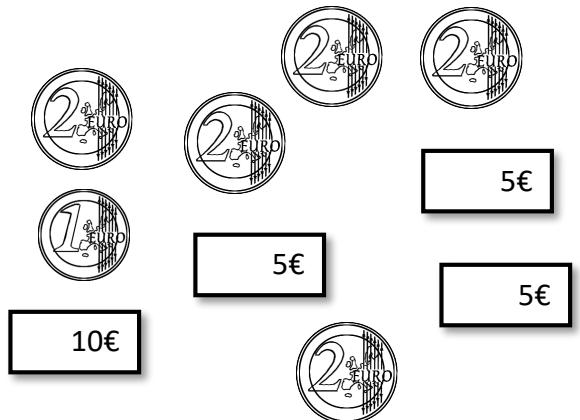


Avec de la monnaie...



Dans mon portemonnaie, il y a _____ euros.


Entoure ce qu'il faut pour acheter le jouet



NOM _____

DATE _____

Étoile orange



8 soleils ? C'est gagné !



Souligne les dates.

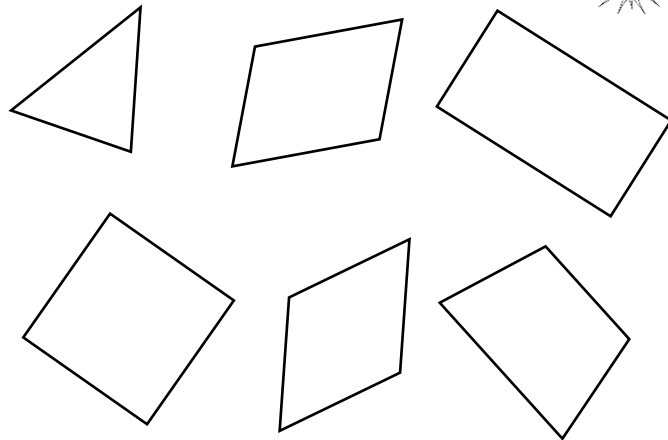
Les traits sont droits et à leur place



Jeudi 9 septembre									
Vendredi 17 décembre									



Repasse un côté du rectangle en bleu et entoure un sommet du carré.



Sur le quadrillage...



	A	B	C	D	E	F
1				✂		
2						
3		🎵				
4					🏠	
5						

Complète les coordonnées

🎵 _____
 🏠 _____
 ✂ _____

Dessine les symboles

◆ : A 5
 ● : D 2
 ■ : E 3

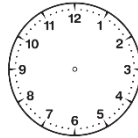
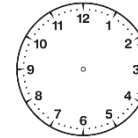
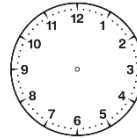


Quelle heure est-il ?





Dessine les aiguilles.



4 h et demi

2 h et demi

midi



Écris les trois mois suivants.

septembre

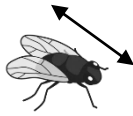
octobre

novembre






Complète avec mm ou cm.



Cette mouche mesure 9 _____.



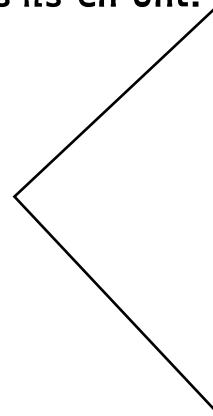
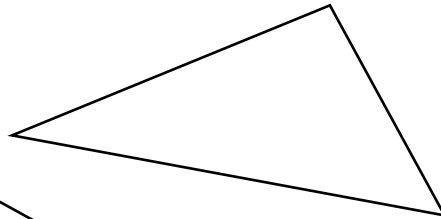
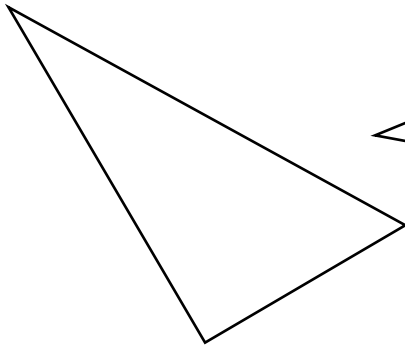
Cette abeille mesure 2 _____.



Cette fourmi mesure 5 _____.



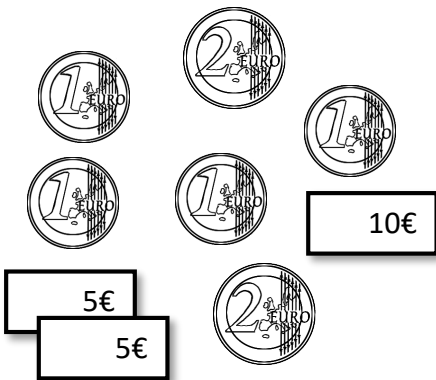
Code les angles droits dans ces triangles, s'ils en ont.



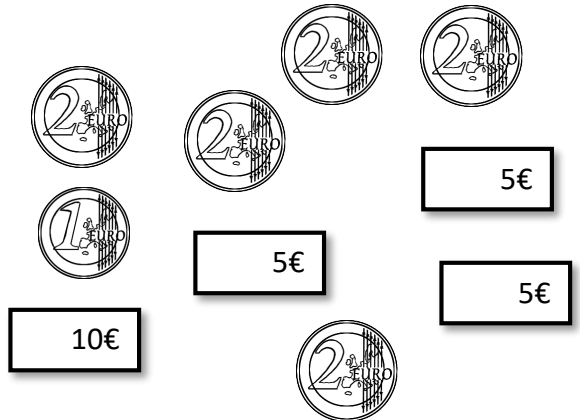
Avec de la monnaie...



Entoure ce qu'il faut pour acheter le jouet




Dans mon portemonnaie, il y a _____ euros.



NOM _____

DATE _____

Étoile orange



B

8 soleils ? C'est gagné !



Souligne les dates.


Les traits sont droits et à leur place




Jeudi 9 septembre									
Vendredi 17 décembre									



Repasse un côté du carré en vert et entoure un sommet du rectangle.



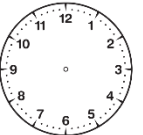
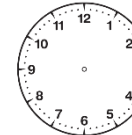
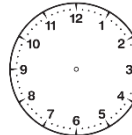
Quelle heure est-il ?



_____	_____	_____
-------	-------	-------



Dessine les aiguilles.



10h et demi

8 h et demi

midi



Sur le quadrillage...



	A	B	C	D	E	F
1		♪				
2					✂	
3						
4				♩		
5						



Écris les trois mois suivants.

février



mars

avril

Complète les coordonnées

♪ _____

♩ _____

✂ _____

Dessine les symboles


◆ : E 3

● : C 5

■ : B 4



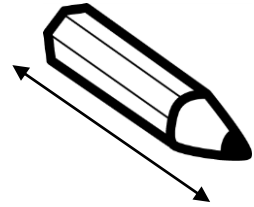
Complète avec mm ou cm.



Cette gomme mesure 4 _____.



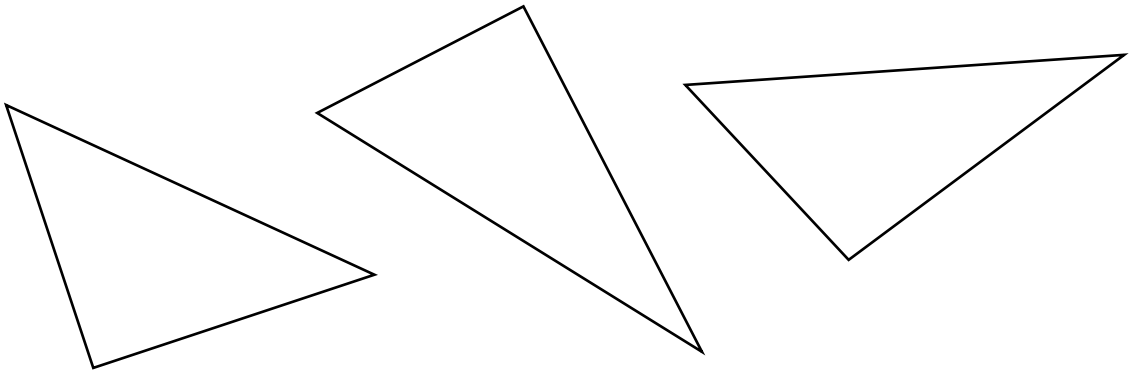
Cette fourmi mesure 3 _____.



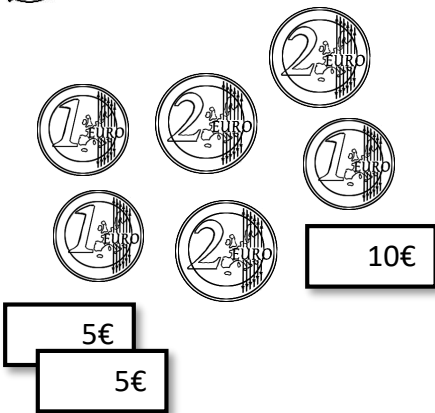
Ce crayon mesure 8 _____.



Code les angles droits dans ces triangles, s'ils en ont.

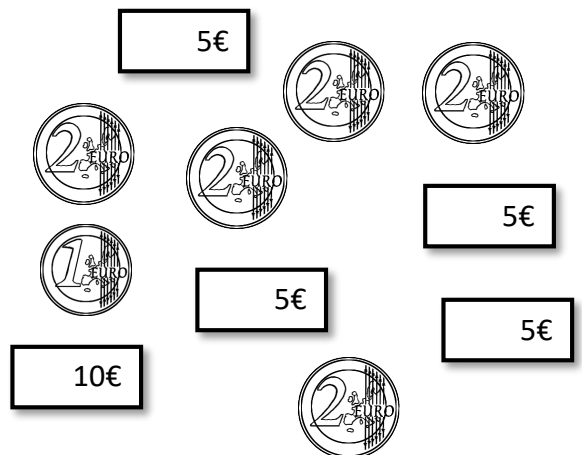


Avec de la monnaie...




Dans mon portemonnaie, il y a _____ euros.

Entoure ce qu'il faut pour acheter le jouet



Étoile rouge



A

NOM _____

DATE _____

8 exercices réussis ? C'est gagné !



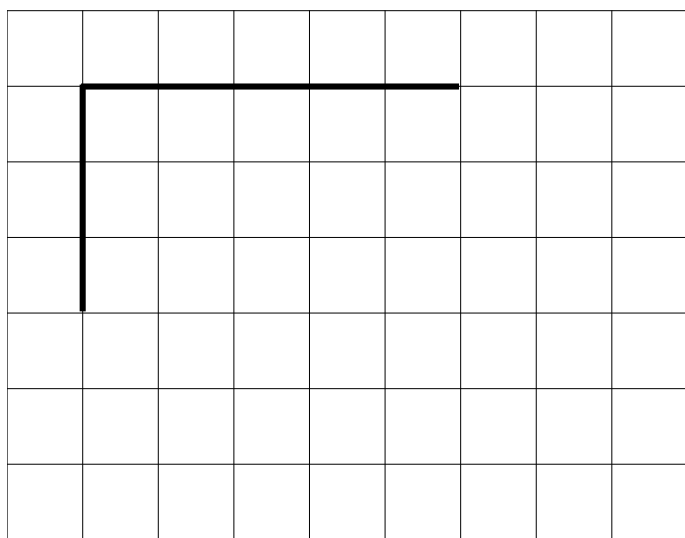
Relie les points dans l'ordre



Les traits sont droits, à leur place. Ils ne dépassent pas les points de départ et d'arrivée.



Termine de tracer le carré.

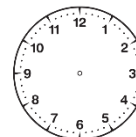
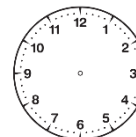
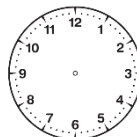


Quelle heure est-il ?





Dessine les aiguilles.




six heures
moins le
quart

une heure
et demi

neuf heures
et quart



Trouve les trois points alignés.



Écris les deux mois suivants :
à quelle saison sont-ils ?

mars

mois : _____

mois : _____


saison : _____



Complète avec mm, cm ou m.



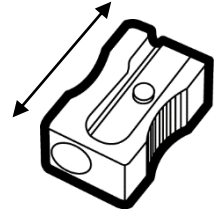
Ce garçon mesure
120 _____.



Cette voiture mesure
5 _____.



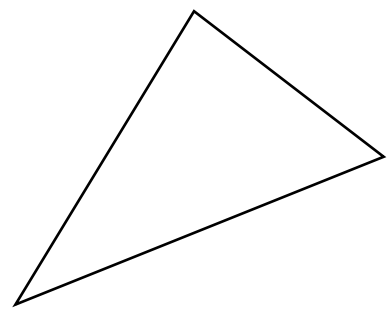
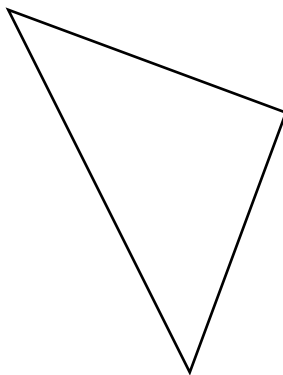
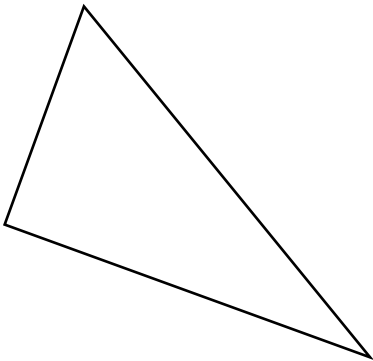
Cette coccinelle mesure
8 _____.



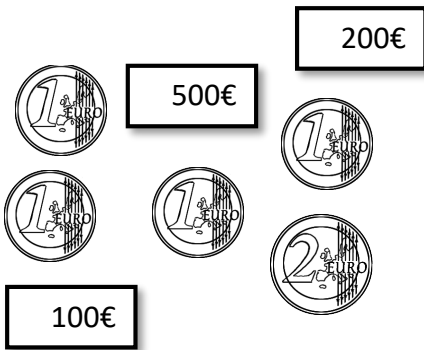
Ce taille-crayon mesure
2 _____.



Code les angles droits dans ces triangles.



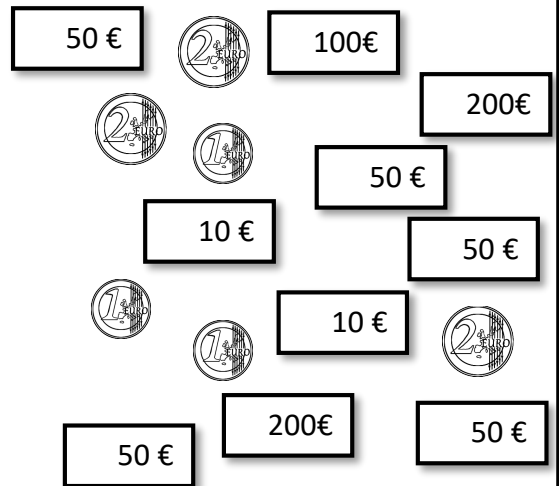
Avec de la monnaie...



Dans mon portemonnaie,
il y a _____ euros.



Entoure ce qu'il faut pour acheter l'ordinateur

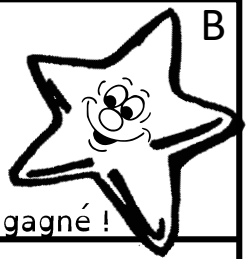


On a commencé à tracer un segment. Prolonge-le pour qu'il mesure 6 cm.



Le trait est bien tracé dans le prolongement du trait déjà tracé. La mesure est précise.

Étoile rouge



NOM _____

DATE _____

8 exercices réussis ? C'est gagné !



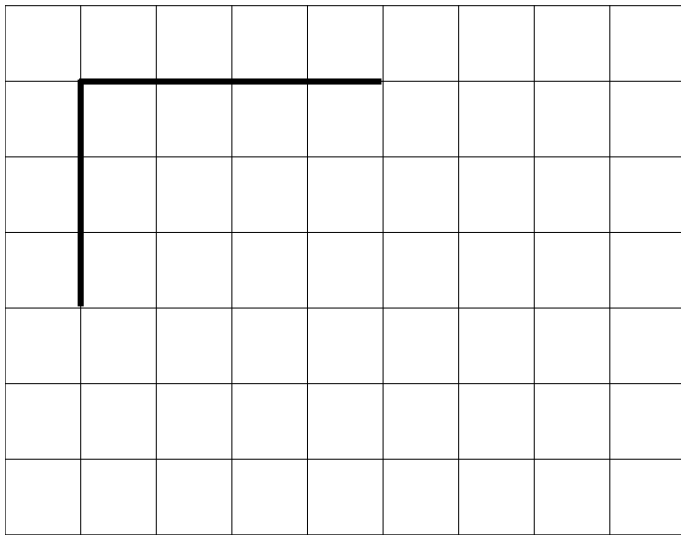
Relie les points dans l'ordre



Les traits sont droits, à leur place. Ils ne dépassent pas les points de départ et d'arrivée.



Termine de tracer le carré.

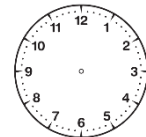
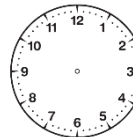


Quelle heure est-il ?





Dessine les aiguilles.




six heures
et
quart

une heure
moins
le quart

neuf heures
et demi



Trouve les trois points alignés.



Écris les deux mois suivants :
à quelle saison sont-ils ?

décembre

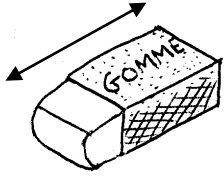
mois : _____

mois : _____


saison : _____




Complète avec mm, cm ou m.



Cette gomme mesure 6 _____.



Cette fourmi mesure 8 _____.



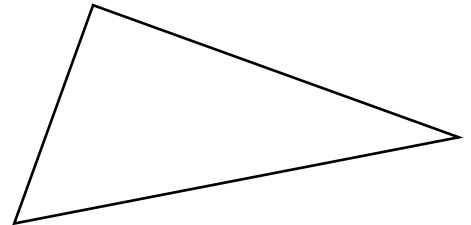
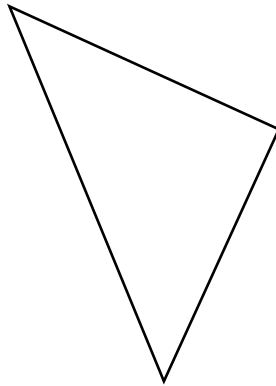
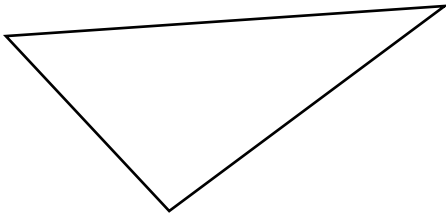
Cet arbre mesure 15 _____.



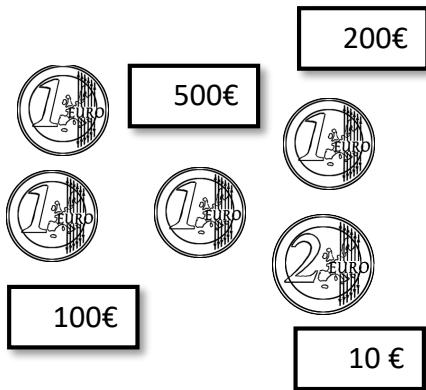
Ce garçon mesure 130 _____.



Code les angles droits dans ces triangles.



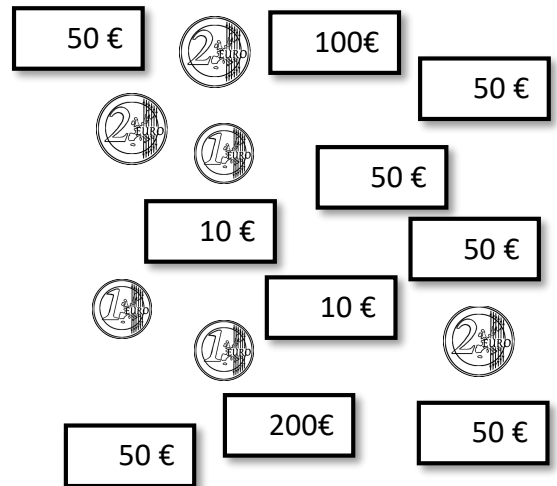
Avec de la monnaie...



Dans mon portemonnaie, il y a _____ euros.



Entoure ce qu'il faut pour acheter l'ordinateur




On a commencé à tracer un segment. Prolonge-le pour qu'il mesure 8 cm.



Le trait est bien tracé dans le prolongement du trait déjà tracé. La mesure est précise.

Étoile rouge



NOM _____

DATE _____

8 exercices réussis ? C'est gagné !



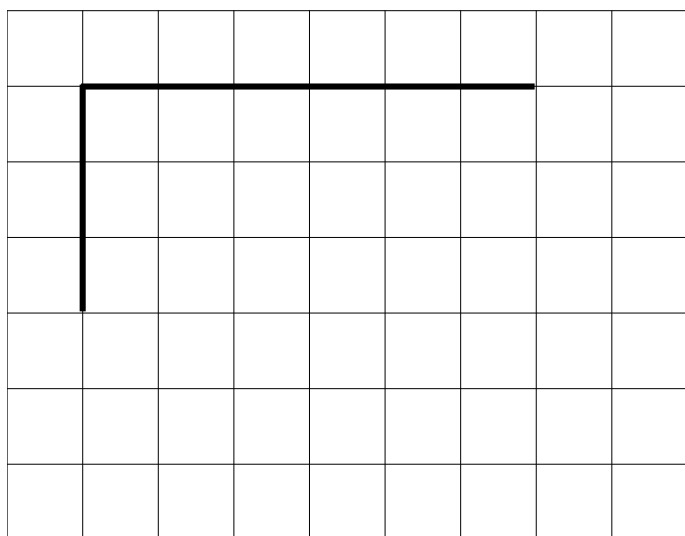
Relie les points dans l'ordre



Les traits sont droits, à leur place. Ils ne dépassent pas les points de départ et d'arrivée.



Termine de tracer le carré.

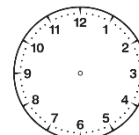
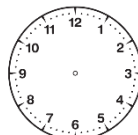


Quelle heure est-il ?





Dessine les aiguilles.




six heures
et
demi

une heure
et quart

neuf heures
moins le
quart



Trouve les trois points alignés.



Écris les deux mois suivants :
à quelle saison sont-ils ?

septembre


mois : _____

mois : _____

saison : _____




Complète avec mm, cm ou m.



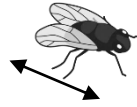
Ce vrai camion
mesure
15 _____.



Ce garçon
mesure
125 _____.



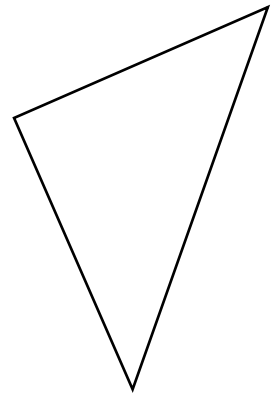
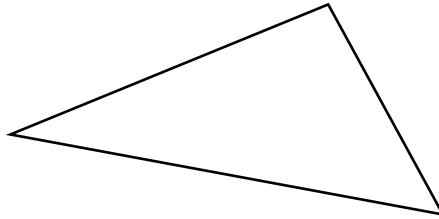
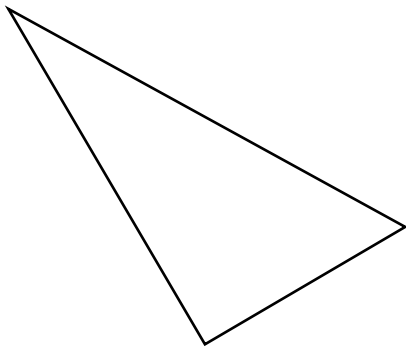
Ce chien
mesure
80 _____.



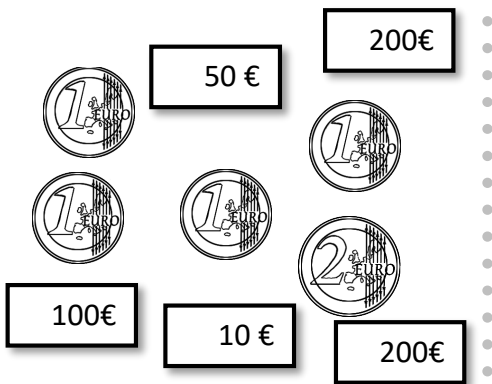
Cette mouche
mesure
9 _____.



Code les angles droits dans ces triangles.



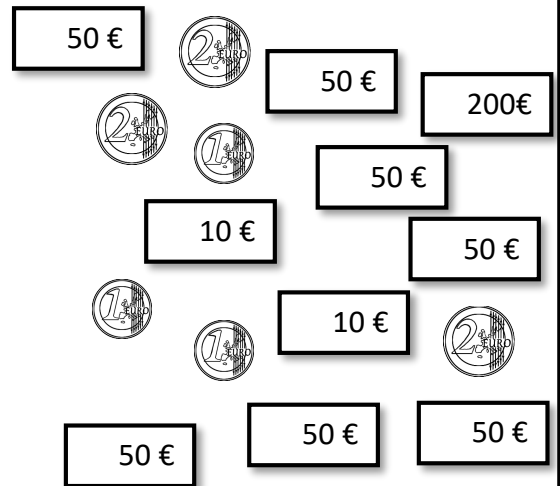
Avec de la monnaie...



Dans mon
portemonnaie,
il y a _____ euros.



Entoure ce qu'il faut pour
acheter l'ordinateur

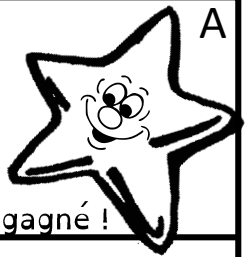


On a commencé à tracer un segment. Prolonge-le pour qu'il
mesure 7 cm.



Le trait est bien tracé
dans le prolongement
du trait déjà tracé. La
mesure est précise.

Étoile verte



NOM _____

DATE _____

8 exercices réussis ? C'est gagné !




Relie les symboles identiques



Les traits sont droits, à leur place. Ils ne dépassent pas les points de départ et d'arrivée.



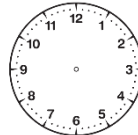
Trace un carré de 5 cm de côté.



Quelle heure est-il ?
(utilise les heures de l'après-midi ou du soir)



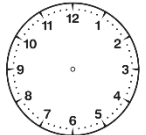
Dessine les aiguilles.



16h45




21h



14h15



Entoure la main droite du garçon et la main gauche de la fille.



Écris ces dates en abrégé

11 novembre 1918 : _____

8 mars 1429 : _____

24 août 1572 : _____


27 juillet 1830 : _____



Complète avec mm, cm ou m.



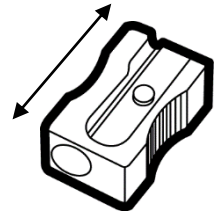
Ce garçon mesure
120 _____.



Cette voiture mesure
5 _____.



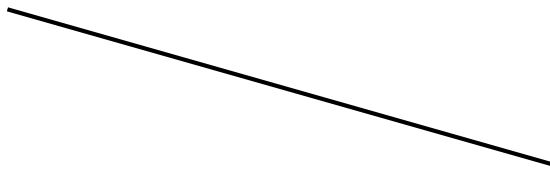
Cette coccinelle mesure
8 _____.



Ce taille-crayon mesure
2 _____.



On a commencé à tracer un triangle rectangle. Termine-le.



- Tu as tracé un triangle.
- Le triangle a un angle droit.
- L'angle droit est précis.
- Tu as bien utilisé le trait déjà tracé.
- Le travail est soigné.



Avec de la monnaie...



Dans mon portemonnaie,
il y a _____ euros
et _____ centimes.

Entoure ce qu'il faut pour
acheter le gâteau.

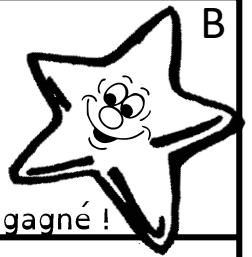


On a commencé à tracer un segment. Prolonge-le pour qu'il
mesure 6 cm 4 mm.



- Le trait est bien tracé dans le prolongement du trait déjà tracé.
- La mesure est précise.

Étoile verte



NOM _____

DATE _____

8 exercices réussis ? C'est gagné !




Relie les symboles identiques



Les traits sont droits, à leur place. Ils ne dépassent pas les points de départ et d'arrivée.



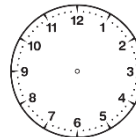
Trace un rectangle de 5 cm
Sur 3 cm.



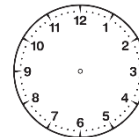
Quelle heure est-il ?
(utilise les heures de
l'après-midi ou du soir)



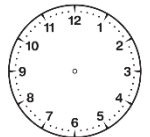
Dessine les aiguilles.



16h15




21h45



14h



Entoure la main gauche du
garçon et la main droite de la
fille.



Écris ces dates en abrégé

14 juillet 1789 : _____

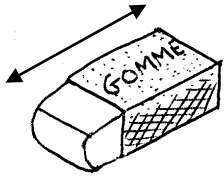
30 avril 1598 : _____

18 octobre 1685 : _____


13 septembre 1515 : _____




Complète avec mm, cm ou m.



Cette gomme mesure
6 _____.



Cette fourmi mesure
8 _____.



Cet arbre mesure
15 _____.



Ce garçon mesure
130 _____.



On a commencé à tracer un triangle rectangle. Termine-le.

- Tu as tracé un triangle.
- Le triangle a un angle droit.
- L'angle droit est précis.
- Tu as bien utilisé le trait déjà tracé.
- Le travail est soigné.


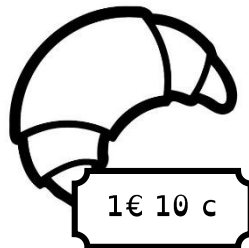


Avec de la monnaie...



Dans mon portemonnaie,
il y a _____ euros
et _____ centimes.

Entoure ce qu'il faut pour
acheter le croissant.




On a commencé à tracer un segment. Prolonge-le pour qu'il
mesure 7 cm 3 mm.

- Le trait est bien tracé dans le prolongement du trait déjà tracé.
- La mesure est précise.



Étoile verte



NOM _____

DATE _____

8 exercices réussis ? C'est gagné !




Relie les symboles identiques



Les traits sont droits, à leur place. Ils ne dépassent pas les points de départ et d'arrivée.



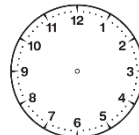
Trace un rectangle de 6 cm
Sur 4 cm.



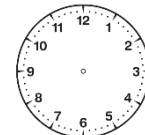
Quelle heure est-il ?
(utilise les heures de
l'après-midi ou du soir)



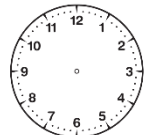
Dessine les aiguilles.



16h



21h15



14h45



Entoure la main droite du
garçon et la main droite de la
fille.



Écris ces dates en abrégé

8 mai 1945 : _____

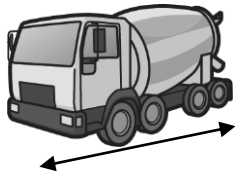
13 septembre 1515 : _____

28 juin 1629 : _____

18 octobre 1685 : _____




Complète avec mm, cm ou m.



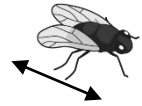
Ce vrai camion
mesure
15 _____.



Ce garçon
mesure
125 _____.



Ce chien
mesure
80 _____.



Cette mouche
mesure
9 _____.



On a commencé à tracer un triangle rectangle. Termine-le.



- Tu as tracé un triangle.
- Le triangle a un angle droit.
- L'angle droit est précis.
- Tu as bien utilisé le trait déjà tracé.
- Le travail est soigné.




Avec de la monnaie...



Dans mon portemonnaie,
il y a _____ euros
et _____ centimes.

Entoure ce qu'il faut pour
acheter la glace.

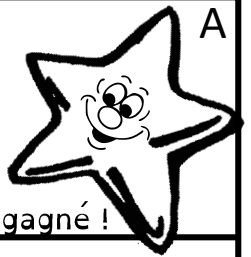


On a commencé à tracer un segment. Prolonge-le pour qu'il
mesure 8 cm 2 mm.



- Le trait est bien tracé dans le prolongement du trait déjà tracé.
- La mesure est précise.

Étoile bleue



NOM _____

DATE _____

8 exercices réussis ? C'est gagné !



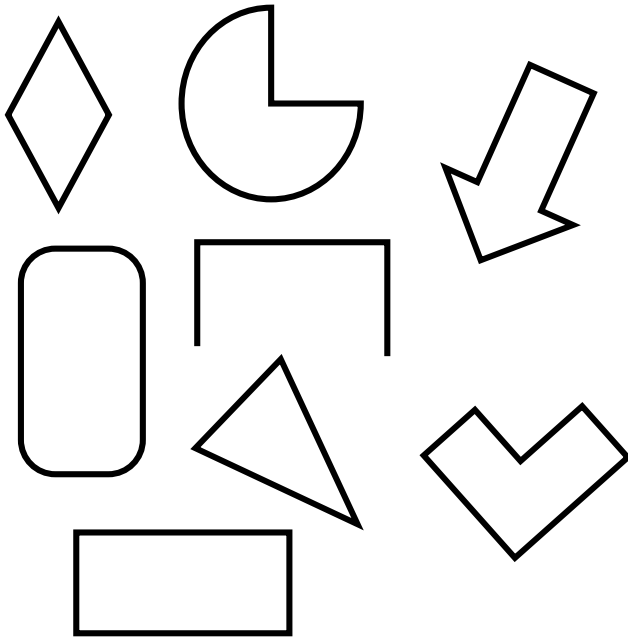
Relie les symboles identiques



Les traits sont droits, à leur place. Ils ne dépassent pas les points de départ et d'arrivée.



Entoure les polygones.

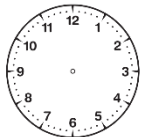
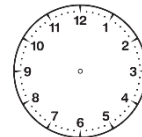
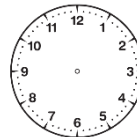


Quelle heure est-il ?





Dessine les aiguilles.




cinq heures
moins
vingt-cinq

15h20

21h40



Entoure la main droite du garçon et la main gauche de la fille.



Complète

Dans un an, il y _____ jours et

_____ semaines.

En mars il y a ___ jours.

En aout, il y a ___ jours.

En novembre, il y a ___ jours.



Complète <, > ou =

100 cm _____ 1 m

5 mm + 5 mm _____ 1 m

12 mm _____ 1 cm

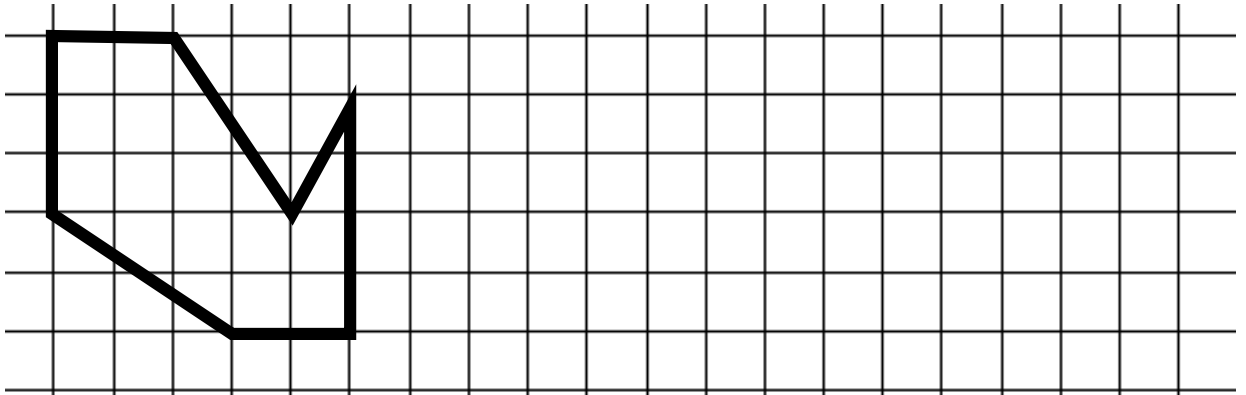
50 cm + 50 cm _____ 1 mm

100 mm _____ 1 m

12 cm + 9 mm _____ 10 cm



Reproduis la figure sur le quadrillage (crayon de couleur).



Avec de la monnaie...



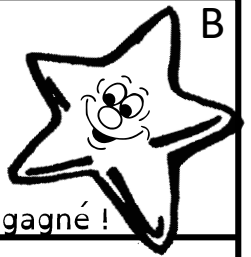
Dans mon portemonnaie,
il y a _____ euros
et _____ centimes.

Entoure ce qu'il faut pour
acheter le gâteau.



Trace ci-dessous une ligne brisée de 30 cm.

Étoile bleue



B

NOM _____

DATE _____

8 exercices réussis ? C'est gagné !




Relie les symboles identiques



Les traits sont droits, à leur place. Ils ne dépassent pas les points de départ et d'arrivée.



Entoure les polygones.

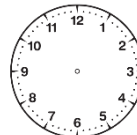


Quelle heure est-il ?

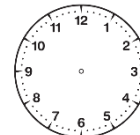




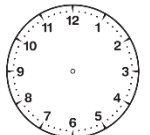
Dessine les aiguilles.



15h35



21h10



trois
heures
moins
dix



Entoure la main gauche du garçon et la main droite de la fille.



Complète

Dans un an, il y _____ semaines


et _____ mois.

En avril il y a ___ jours.

En juillet, il y a ___ jours.

En octobre, il y a ___ jours.

Étoile bleue



NOM _____

DATE _____

8 exercices réussis ? C'est gagné !



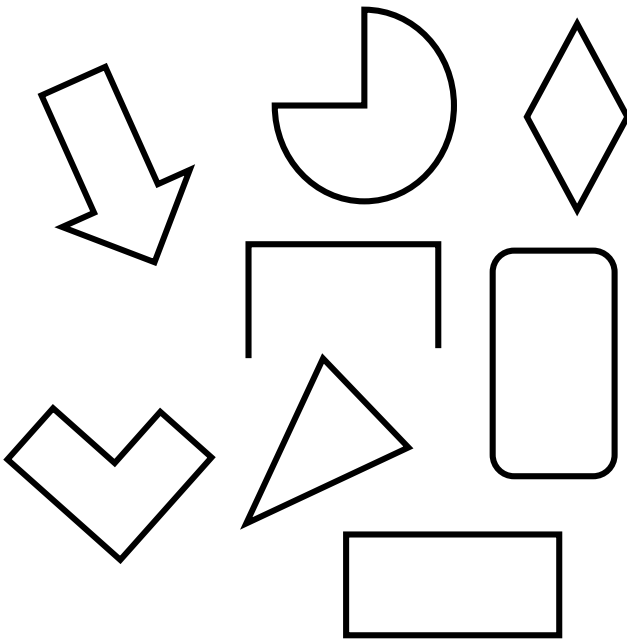
Relie les symboles identiques



Les traits sont droits, à leur place. Ils ne dépassent pas les points de départ et d'arrivée.



Entoure les polygones.

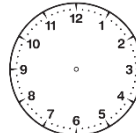


Quelle heure est-il ?

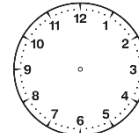




Dessine les aiguilles.



15h40



huit heures
moins dix



19h20



Entoure la main gauche du garçon et la main gauche de la fille.



Complète

Dans un an, il y _____ jours et

_____ mois.

En mai il y a ___ jours.

En aout, il y a ___ jours.

En décembre, il y a ___ jours.



Complète <, > ou =

10 cm _____ 1 m

5 mm + 5 mm _____ 10 cm

12 mm _____ 1 cm

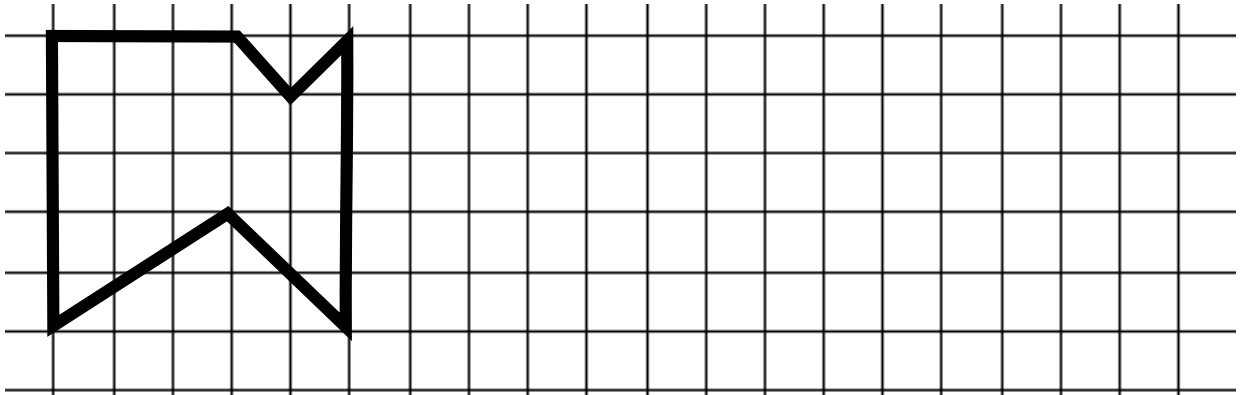
50 cm + 50 cm _____ 10 mm

1000 mm _____ 1 m

9 mm + 12 cm _____ 10 mm




Reproduis la figure sur le quadrillage (crayon de couleur).



Avec de la monnaie...



Entoure ce qu'il faut pour acheter la glace.



Dans mon portemonnaie,
il y a _____ euros
et _____ centimes.

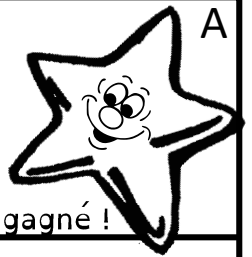


Trace ci-dessous une ligne brisée de 32 cm.

NOM _____

DATE _____

Étoile violette



8 exercices réussis ? C'est gagné !



Relie les symboles identiques



Les traits sont droits, à leur place. Ils ne dépassent pas les points de départ et d'arrivée.



Trace un cercle de centre A.
Trace un diamètre en vert et un rayon en bleu.

x A



Quelle heure est-il ?

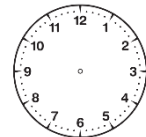




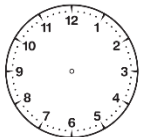
Dessine les aiguilles.



15h38



21h17



trois heures moins vingt



Entoure le petit carré qui est exactement au milieu de [AB]

A x



B
x



Combien de temps dure le film ?



début



fin

Le film dure _____



Complète <, > ou =

10 mm _____ 1 m

5 mm + 5 mm _____ 1 m

12 mm _____ 1 cm

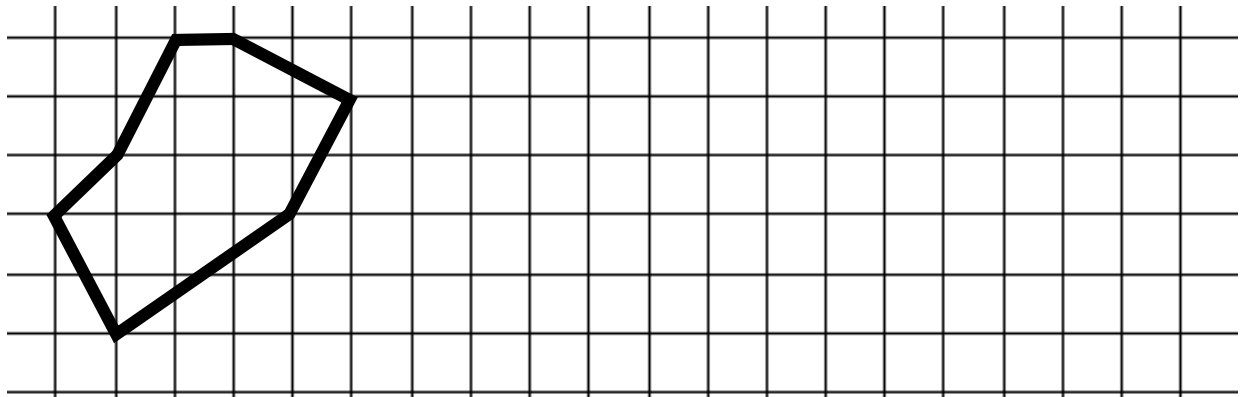
50 m + 50 m _____ 1 km

1000 m _____ 1 km


100 m + 9 km _____ 10 km



Reproduis la figure sur le quadrillage (crayon de couleur).



Rendre la monnaie.



Léa paye avec un billet de 50€.
Combien le commerçant doit-il lui rendre ?

Il doit rendre _____

Tom paye avec une pièce de 2€.
Combien le commerçant doit-il lui rendre ?

Il doit rendre _____



Combien mesure cette ligne brisée ?

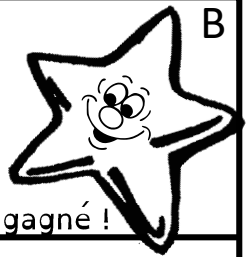


La ligne mesure _____

NOM _____

DATE _____

Étoile violette



B

8 exercices réussis ? C'est gagné !



Relie les symboles identiques



Les traits sont droits, à leur place. Ils ne dépassent pas les points de départ et d'arrivée.



Trace un cercle de centre A.
Trace un diamètre en bleu et un rayon en vert.

x A

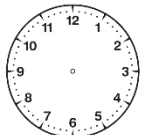
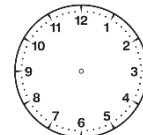
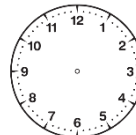


Quelle heure est-il ?





Dessine les aiguilles.



quatre heures
moins
vingt-cinq

21h38

19h17



Entoure le petit carré qui est exactement au milieu de [AB]

A x



B
x



Combien de temps dure le film ?



début



fin

Le film dure _____



Complète <, > ou =

1000 mm _____ 1 km

5 mm + 5 mm _____ 1 cm

120 m _____ 1 km

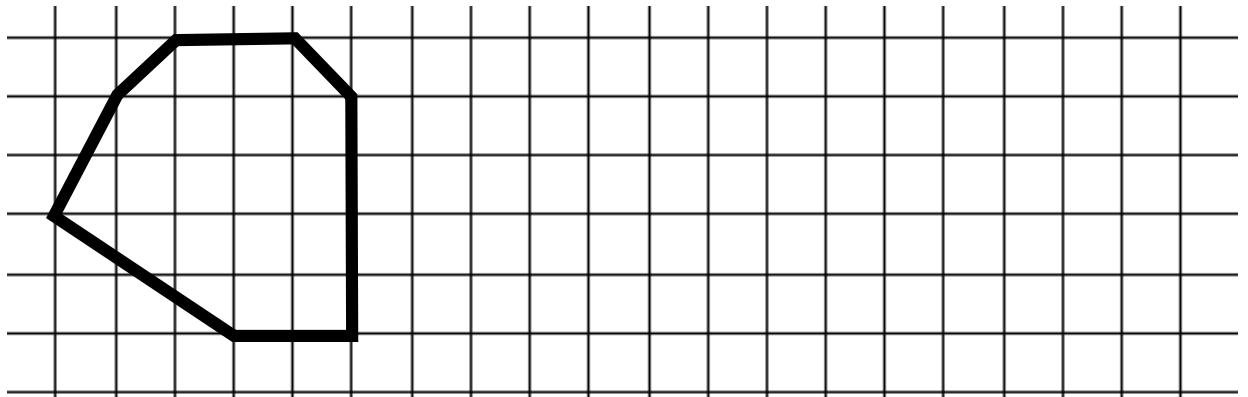
50 mm + 50 mm _____ 1 m

100 m _____ 1 km



10 m + 9 km _____ 10 km



Reproduis la figure sur le quadrillage (crayon de couleur).



Rendre la monnaie.



Léa paye avec un billet de 50€.
Combien le commerçant doit-il lui rendre ?

Il doit rendre _____

Tom paye avec une pièce de 2€.
Combien le commerçant doit-il lui rendre ?

Il doit rendre _____



Combien mesure cette ligne brisée ?



La ligne mesure _____

NOM _____

DATE _____

Étoile violette



8 exercices réussis ? C'est gagné !

C



Relie les symboles identiques

- ◆
-
-
- ★
- ◇

- ◆
-
-
- ★
- ◇

Les traits sont droits, à leur place. Ils ne dépassent pas les points de départ et d'arrivée.



Trace un cercle de centre A.
Trace un rayon en bleu et un diamètre en vert.

x A

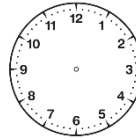


Quelle heure est-il ?

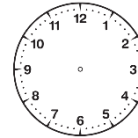




Dessine les aiguilles.



15h17



neuf heures
moins
vingt-cinq



19h38



Entoure le petit carré qui est exactement au milieu de [AB]

A x

...

B
x



Combien de temps dure le film ?



début



fin

Le film dure _____



Complète <, > ou =

1 000 mm _____ 1 m

5 mm + 5 mm _____ 10 cm

1 200 m _____ 1 km

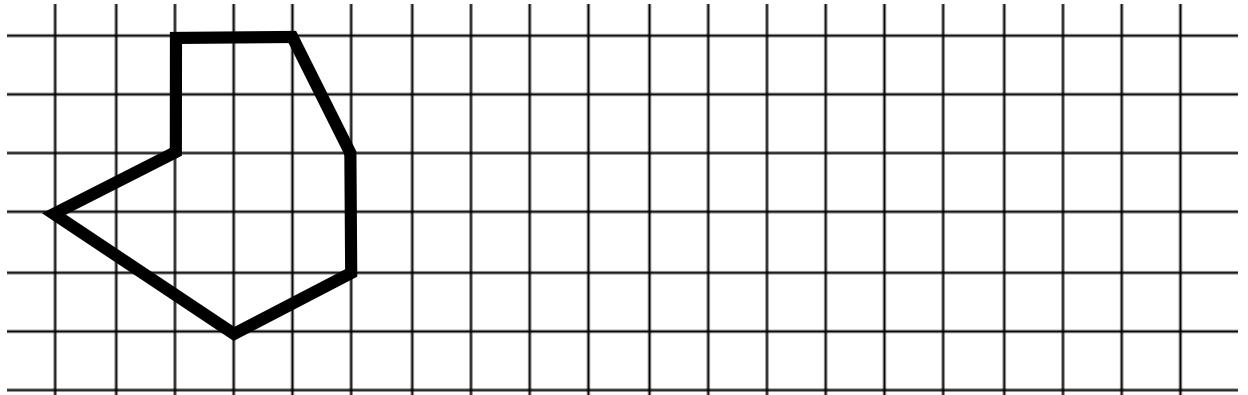
500 m + 500 m _____ 1 km

10 cm _____ 1 m


1000 m + 9 km _____ 10 km



Reproduis la figure sur le quadrillage (crayon de couleur).



Rendre la monnaie.



Léa paye avec un billet de 50€.
Combien le commerçant doit-il lui rendre ?

Il doit rendre _____

Tom paye avec une pièce de 2€.
Combien le commerçant doit-il lui rendre ?

Il doit rendre _____



Combien mesure cette ligne brisée ?

La ligne mesure _____

